

TYT TARİH SORU BANKASI

Copyright ©

Bu kitabın tamamının ya da bir kısmının, kitabı yayınlayan şirketin önceden izni olmaksızın elektronik, mekanik, fotokopi ya da herhangi bir kayıt sistemi ile çoğaltılması, yayımlanması ve depolanması yasaktır. Bu kitabın tüm hakları **WORKWIN Yayıncılık**'a aittir.

Sertifika No: 46063

KÜNYE

ISBN

978-605-74224-1-5

YAZAR
&
GRAFİK

WORKWIN

BASKI
YERİ
ve CİLT

Yeni Devir Matbaacılık ve
Gazetecilik A.Ş.
Matbaa Sertifika No: 15732

İLETİŞİM

- www.workwin.net
- info@workwin.net
- workwinyayinlari
- WorkwinSerisi
- workwinyayinlari
- workwinyayinlari

0 (850) 811 77 66

GENEL
DAĞITIM

**bu
ma**

Buma Pazarlama A.Ş.
0212 982 5424
iletisim@buma.web.tr

SUNUŞ

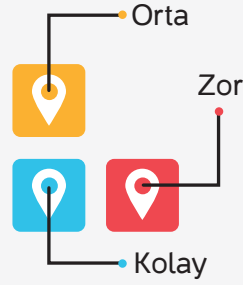
Sevgili Öğrenciler,

Zaman hızla akıyor, devir değişiyor. Her şeyin değiştiği bu sistemde sınavlar ve sorular da değişip kendini yeniliyor. Merkezî sınavlarda artık “**YENİ NESİL**” sorular soruluyor. Biz de “**WORKWIN YAYINLARI**” olarak bu yeniliğin bilinciyle “**% 100 YENİ NESİL SORULAR**”dan oluşan bu kitabı hazırladık. Bu kitapta sizin yeni nesil soru ihtiyacınızı bütünüyle karşılamak istedik. Bununla da kalmadık, yeni nesil soruları kategorize ederek;

- ▶ Kolay seviyedeki sorularla öncelikle yeni nesil soru mantığını **kavramanızı**,
- ▶ Orta seviyedeki sorularla konuları **pekiştirmenizi**,
- ▶ Zor seviyedeki sorularla da **donanımlı** bir şekilde sınava hazır hâle gelmenizi hedefledik.

Elinizdeki kitabın hazırlanışında sınava dönük işlevi olan ve tüm noktaları kapsayıcı bir format benimsenmiştir:

- ▶ % 100 yeni nesil
- ▶ İçerik ve biçim zenginliği
- ▶ Özgün ve öncü nitelik
- ▶ Dijital zenginlik
- ▶ Rehberlik destekli anlayış
- ▶ Konuşan renklerle konum belirleme



Sınava hazırlık yolunda size yardımcı olacağını düşündüğümüz bu kitaptan gereken faydayı sağlamanız dileğiyle...

Sloganımız, adımızda gizli: **WORKWIN**

İÇİNDEKİLER

▶ 1. ÜNİTE: Tarih ve Zaman	4
▶ 2. ÜNİTE: İnsanlığın İlk Dönemleri	10
▶ 3. ÜNİTE: Orta Çağ'da Dünya	16
▶ 4. ÜNİTE: İlk ve Orta Çağlarda Türk Dünyası	22
▶ 5. ÜNİTE: İslam Medeniyetinin Doğuşu	30
▶ 6. ÜNİTE: Türklerin İslamiyet'i Kabulü ve İlk Türk İslam Devletleri	36
▶ 7. ÜNİTE: Yerleşme ve Devletleşme Sürecinde Selçuklu Türkiye'si	44
▶ 8. ÜNİTE: Beylikten Devlete Osmanlı Siyaseti (1302-1453)	52
▶ 9. ÜNİTE: Devletleşme Sürecinde Savaşçılar ve Askerler	58
▶ 10. ÜNİTE: Beylikten Devlete Osmanlı Medeniyeti	64
▶ 11. ÜNİTE: Dünya Gücü Osmanlı (1453-1595)	70
▶ 12. ÜNİTE: Sultan ve Merkez Teşkilatı	78
▶ 13. ÜNİTE: Klasik Çağda Osmanlı Toplum Düzeni	84
▶ 14. ÜNİTE: Değişen Dünya Dengeleri Karşısında Osmanlı Siyaseti (1595-1700)	90
▶ 15. ÜNİTE: Değişim Çağında Avrupa ve Osmanlı	96
▶ 16. ÜNİTE: Uluslararası İlişkilerde Denge Stratejisi (1774-1914)	104
▶ 17. ÜNİTE: Devrimler Çağında Değişen Devlet ve Toplum İlişkileri	112
▶ 18. ÜNİTE: Sermaye ve Emek	122
▶ 19. ÜNİTE: XIX. ve XX. Yüzyılda Değişen Gündelik Hayat	128
▶ 20. ÜNİTE: XX. Yüzyıl Başlarında Osmanlı Devleti ve Dünya	134
▶ 21. ÜNİTE: Millî Mücadele (Hazırlık Dönemi)	144
▶ 22. ÜNİTE: Millî Mücadele (Cepheler)	154
▶ 23. ÜNİTE: Atatürkçülük ve Türk İnkılabı (İnkılaplar ve İlkeler)	162
▶ 24. ÜNİTE: İki Savaş Arasındaki Dönemde Türkiye ve Dünya	172
▶ 25. ÜNİTE: II. Dünya Şavaşı Sürecinde Türkiye ve Dünya	178
▶ 26. ÜNİTE: II. Dünya Savaşı Sonrasında Türkiye ve Dünya	184
▶ 27. ÜNİTE: Toplumsal Devrim Çağında Dünya ve Türkiye	190
▶ 28. ÜNİTE: XXI. Yüzyılın Eşiğinde Türkiye ve Dünya	196
Cevap Anahtarı	202



TEST - 1

1. ÜNİTE

Tarih ve Zaman

1. Tarihçi Fernard Braudel tarihi, geçmişteki, günümüzdeki ve gelecekteki meslekî kabiliyet ve bakış açılarının bir araya gelmesi olarak görmüştür. Ona göre bugün; dünden, daha evvelden, çok eskilerden kaynaklanmaktadır.

Fernard Braudel bu bakışıyla,

- I. Tarihte bir olay zaman içerisinde tekrar eder.
- II. Tarihi olaylar bilimsel yöntemlerle ele alınmalıdır.
- III. Tarihi bir olay, kendisinden sonraki tarihi olayı etkiler.

yargılarından hangilerini savunmuştur?

- A) Yalnız I
B) Yalnız III
C) I ve II
D) II ve III
E) I, II ve III

2. Oktay Öğretmen'in dersindeki bir soruya vermiş olduğu cevap şöyledir: "Tabi ki, örneğin bir veba salgını kitlesel ölümlere yol açarak devletlerin askerî, ekonomik açıdan ve nüfus bakımından zayıflamasına yol açabilir. Aynı şekilde deprem veya kuraklık gibi afetler de büyük göç hareketlerine neden olabilir."

Oktay Öğretmen'in bu cevabının aşağıdaki sorulardan hangisine yönelik olduğu söylenebilir?

- A) Tarih, en fazla hangi konularla ilgilenir?
- B) Tarih araştırmalarında olayların üzerinden belli bir süre geçmesi niçin beklenir?
- C) Tarihçiler, daha çok birbirleriyle bağlantılı konuları mı inceler?
- D) Bir bölgede yaşanan sosyoekonomik sorunlar tarihi kaynakları yok eder mi?
- E) Tarih, insanın iradesi dışında gelişen olaylarla da ilgilenir mi?

3. Tarihi kaynaklar, bilgi veren kaynağın ve malzemenin cinsine göre çeşitli gruplara ayrılır.

Bu bilgiye göre aşağıdaki kaynaklardan hangisi diğerlerinden farklı bir niteliktedir?

- A) Şecere
B) Yıllıklar
C) Biyografiler
D) Menkıbeler
E) Mühürler

4. Fizikçilerin ısıtılan metallerin genleştiğini gözlemledikten sonra "Isınan metaller genişler." ifadesini, tarihçilerin kullanamayacağını söyleyen bir kişi, tarih biliminde aşağıdakilerden hangisinin olmadığına işaret etmiştir?

- A) Yöntem
B) Analiz
C) Genelleme
D) Eleştiri
E) Sınıflandırma

5. Aşağıdaki tabloda tarih bilimi ile fen bilimlerinin karşılaştırılması verilmiştir.

	Tarih	Fen bilimleri
X	Tarih, aralarında sistematik ilişki bulunmayan, her biri kendine özgü, biricik olaylarla ilgilenir.	Fizik, kimya, biyoloji gibi fen bilimleri birbiriyle bağlantılı ve tekrarlanabilir olayları inceler.

Tablodaki bilgilere göre X olarak gösterilen bölüme aşağıdakilerden hangisi getirilmelidir?

- A) İnceleme alanı
B) Yöntemleri
C) Diğer bilimlerle ilişki
D) Nesnellik yönü
E) Katkıları

6. Türkler tarih boyunca sırasıyla; On İki Hayvanlı Türk Takvimi, Hicri takvim, Celâli takvim, Rûmi takvim ve Miladi takvimi kullanmıştır.

Bu bilgiyle Türkler hakkında aşağıdakilerden hangisi söylenemez?

- A) Farklı dinleri benimsedikleri
B) Kültürel etkileşime açık oldukları
C) Bilimsel faaliyetlerde buldukları
D) Aynı anda farklı takvimler kullandıkları
E) Hoşgörülü bir toplum oluşturdukları





7. Bazı tarihçiler Yeni Çağ'ın başlangıcı olarak İstanbul'un fethini, bazıları ise matbaanın icadını kabul etmişlerdir. Aynı şekilde kimi tarihçiler İlk Çağ'ın Kavimler Göçü'yle birlikte sona erdiğini kabul ederken bir kısım tarihçiler bunun Batı Roma İmparatorluğu'nun yıkılışıyla gerçekleştiğini söylemektedir.

Bu durumun nedeni olarak aşağıdakilerden hangisi gösterilebilir?

- A) Her çağın dünyanın her yerinde aynı anda başlayıp bitmemesi
B) Toplumların kendi tarihlerindeki önemli olayları esas alması
C) Tarihçiler arasında fikir alışverişinin yeterli seviyede olmaması
D) Bazı toplumların tarihleri hakkında yeterli kaynak bulunamaması
E) Tarihin çağlara ayrılmasının dönemler arasındaki bağlantıyı zayıflatması

8. Orta Asya'da yaşanan kuraklık ve kıtlık tarihin konusu değilken bu doğa olayı sonucundaki göçler tarihin konusu olabilir.

Bu bilgiyle bir olayın tarihin konusu olabilmesi aşağıdakilerden hangisine bağlanabilir?

- A) Geniş bir alanda etkili olmasına
B) Temelinde coğrafi faktörlerin olmasına
C) Uzun bir süreçte meydana gelmesine
D) Doğada kendiliğinden meydana gelmesine
E) İnsan ve insan topluluklarını etkilemesine

9. Mekkeli müşriklerin baskıları sonucunda Müslümanlar önce Habeşistan'a sonra da Medine'ye göç etmişlerdir.

Tarih biliminde bu bilgilere,

- I. sosyoloji,
II. kronoloji,
III. coğrafya

bilimlerinin hangilerinden yararlanılarak ulaşıldığı savunulabilir?

- A) Yalnız I
B) Yalnız II
C) Yalnız III
D) I ve III
E) I, II ve III

10. Aşağıdaki tabloda bazı tarihler verilmiştir.

I.	MÖ 3200
II.	MS 1000
III.	1500
IV.	MÖ 4000
V.	MS 1900

Tabloda aralarında süre farkı en az olan tarihler aşağıdakilerden hangisinde birlikte verilmiştir?

- A) I ve II
B) I ve IV
C) II ve III
D) III ve IV
E) IV ve V

11. Atatürk Dönemi Türk dış politikası hakkında araştırma yapacak olan Sude'nin aşağıdaki araştırma basamaklarından hangisini takip etmesi düşünülemez?

- A) Tasnif
B) Gözlemele
C) Eleştiri
D) Sentez
E) Kaynak tarama

12. Tarih biliminin araştırmalarında fen bilimleri gibi deney ve gözlem yöntemini kullanamamasının nedeni aşağıdakilerden hangisidir?

- A) Bazı sonuçların zamanla değişmesi
B) Araştırma konularının geniş olması
C) Mutlak sonuçlara ulaşılamaması
D) Konuların tekrarının olmaması
E) Tarihin sosyal bir bilim dalı olması





1. Tarih öğretmeni, John Henry Robinson'a ait: "Tarih, insanın yeryüzünde görüldüğü andan itibaren yaptığı ya da düşündüğü her bir izi, ortak olan her şeyi içerir." sözünü derste söyledikten sonra öğrencilerine: "Bu sözden hareketle tarihin inceleme alanına giren konulara örnekler veriniz." demiştir. Öğrencilerden bazıları aşağıdaki cevapları vermiştir.

- I. Japonya'da meydana gelen tsunaminin toplumsal hayata etkileri
- II. Sanayi toplumunun ortaya çıkışının nedenleri
- III. İnanç anlayışının askerî ve sosyal hayata etkileri
- IV. Küresel ısınmanın ortaya çıkmasındaki faktörler

Öğrencilerin verdiği bu cevaplardan hangileri doğrudur?

- A) Yalnız I B) Yalnız IV C) I ve II
D) III ve IV E) I, II ve III

2. Amerikalı tarihçi Turner, tarihi "Geçmişten bize ulaşan, günümüzde ortaya çıkan tenkitçi ve yorumcu bir anlayışla incelenen kalıntılar." şeklinde açıklamıştır.

Turner, bu sözle tarihin aşağıdaki niteliklerinden hangisine işaret etmemiştir?

- A) Konusu B) Tanımı C) Değişebilirliği
D) Yöntemi E) Dayanağı

3. Tarih dersinde Birsal Öğretmen aşağıdaki görselleri sınıfa göstererek tarihin konusu hakkında açıklamalar yapmıştır.



Buna göre aşağıdakilerden hangisi Birsal Öğretmen'in açıklamalarından biri olamaz?

- A) Tarımsal faaliyetler tarihin inceleme alanına giren konulardan biridir.
- B) Tarih insanın her türlü düşüncesini, bu düşüncelerin eseri olan faaliyetlerini ve bunların sonucunda ortaya çıkan değişimleri inceler.
- C) Savaşlar tarihin inceleme alanına giren insan faaliyetlerindedir.
- D) Tarih, insanların yönlendirdiği gelişmeleri ve toplumların zaman içinde geçirdikleri safhaları açıklığa kavuşturmayı görev edinir.
- E) Tarih insanların bireysel faaliyetleri yerine birlikte yaptıkları organizasyonlarla ilgilidir.

4. Eda Öğretmen tarih dersinde: "Matematik bilimi zamanı ve mekânı olmayan sayısal kavramları konu edinir. Tarih ise yeri ve zamanı belli olan, yaşanmış olaylarla ilgilenir." demiştir.

Eda Öğretmen bu ifadesinde iki bilim dalını aşağıdakilerden hangisine göre karşılaştırmıştır?

- A) Konuların nitelik ve niceliğine
- B) İnceleme alanının genişliğine
- C) Sonuçların sunulma biçimine
- D) Araştırmalarda izlenen sıralamaya
- E) Diğer bilim dallarıyla olan ilişkiye

5. Osmanlı tarihiyle ilgili araştırma yapan Berkehan, bu çalışmasında; Heraldik, etnografya, nümizmatik ve diplomasi bilimlerinden yararlanmıştır.

Buna göre aşağıdakilerden hangisi Berkehan'ın araştırdığı konulardan birisi değildir?

- A) Armaların özellikleri
- B) Örf ve âdetler
- C) Konuşulan diller
- D) Altın ve gümüş paralar
- E) Tapular ve fetihnameler

6. Tarihçilerin bazı tarihî gelişmeler hakkında "Acaba insanlar neden böyle bir uygulamaya gerek duymuşlardır?" diye sorma gereği duymaları, tarih biliminde aşağıdaki hatalardan hangisine düşmeleriyle ilgilidir?

- A) Farklı bilim dallarından yeterince yararlanmama
- B) Araştırma basamaklarını dikkate almama
- C) Yazılı ve sözlü kaynaklardan istifade etmeme
- D) Tarihi olayı bugünün değer yargılarıyla değerlendirme
- E) Olayların üzerinden belli bir sürenin geçmesini beklememe



7. Büyük Selçuklu Sultanı Melikşah (1072-1092) tarafından hazırlatılan ve güneş yılını esas alan Celâli takviminde yılbaşı 21 Mart'tır. Melikşah'ın unvanı Celaleddin olduğu için Celâli takvimi adı verilen bu takvimin başlangıç tarihi 15 Mart 1079'dur.

Bu bilgiyle Büyük Selçuklular hakkında,

- I. Her hükümdar dönemi için ayrı bir takvim hazırlamışlardır.
- II. Kendileri için önemli bir olayı takvime isim olarak vermişlerdir.
- III. Takvim alanında diğer toplumların birikimlerinden yararlanmışlardır.

yargılarından hangilerine ulaşılabilir?

- A) Yalnız I B) Yalnız II C) I ve II
D) II ve III E) I, II ve III

8. Tarih; toplumların başından geçen olayları zaman ve yer göstererek anlatan bunların sebep ve sonuçlarını, birbirleriyle olan ilişkilerini ele alan sosyal bir bilimdir.

Bu tanımlamada tarihin aşağıdaki bilim dallarından hangisiyle olan ilişkisi yoktur?

- A) Etnografya B) Sosyoloji C) Coğrafya
D) Kronoloji E) Filoloji

9. İbraniler MÖ 3761'deki Yaradılış yılını, Yunanlılar ilk olimpiyat oyunlarının yapıldığı MÖ 776'yı, Hristiyanlar Hz. İsa'nın doğumu olan sıfırı, Müslümanlar MS 622'de Hz. Muhammed (s.a.v.)'in Mekke'den Medine'ye hicretini takvimlerine başlangıç olarak esas almışlardır.

Bu bilgiyle,

- I. Toplumlar yaşamlarında önemli olayları takvimlerine başlangıç yapmışlardır.
- II. Günümüzde kullanılan takvimler birden çok toplumun katkısıyla oluşmuştur.
- III. Takvimler daha çok dinî alandaki ihtiyaçlar doğrultusunda hazırlanmıştır.

yargılarından hangilerine ulaşılabilir?

- A) Yalnız I B) Yalnız III C) I ve II
D) II ve III E) I, II ve III

10. Tarih öğretmeni Zeynep'e ödev olarak tarih öğrenmenin faydaları konusunu vermiştir. Zeynep hazırladığı ödevde tarih öğrenmenin faydalarından beşini yazmış ancak öğretmeni bunlardan birinin yanlış olduğunu belirtmiştir

Buna göre öğretmenin, Zeynep'in ödevinde yanlış olduğunu belirttiği ifade aşağıdakilerden hangisidir?

- A) Millî birlik beraberlik anlayışının gelişmesini sağlama
- B) Devlet yöneticilerine devletin nasıl yönetileceği konusunda yardımcı olma
- C) Kişilere karşılaştıkları durumlardan hareketle mantıklı bir sonuca varma yeteneği kazandırma
- D) İnsanlara vatan ve millet kavramları ile millî ve kültürel değerleri öğretme
- E) İnsanların aralarındaki sorunları askeri gücüyle çözümlenmelerine katkı sağlama

11. Aşağıdakilerden hangisinde "Tarihte mutlak değerler yoktur." yargısını örnekleyen bir bilgi vardır?

- A) Tarih öncesi çağların ve tarihi dönemlerin dünyanın her yerinde aynı anda yaşanmadığı bilgisinin benimsenmesi
- B) Ateşin insanoğlu tarafından nasıl bulunduğu konusunda tarihçiler tarafından araştırma yapılması
- C) Yapılan araştırmayla ilk Osmanlı parasının Orhan Gazi tarafından değil Osman Bey tarafından bastırıldığı anlaşılmaması
- D) İlk yazılı antlaşmanın Hititler ile Mısırlılar arasında yapılan Kadeş Antlaşması olduğunun bilinmesi
- E) Kâğıt, matbaa, barut ve pusulanın dünyanın değişik milletleri tarafından kullanılması

12. Necla Öğretmen tarih dersinde, öğrencilerine "Osmanlı Devleti'nin Birinci Dünya Savaşı'ndan yenik ayrılmasıyla Mondros Mütarekesi'nin imzalanması ve Anadolu'da işgallerin başlaması" arasındaki ilişkinin kurulmasında tarih biliminin yararlandığı alanı sormuştur

Öğrencilerin aşağıdakilerden hangisini cevap olarak vermesi beklenir?

- A) Epigrafi B) Kronoloji C) Heraldik
D) Filoloji E) Etnografya





TEST - 3

Tarih ve Zaman

1.

Bilim Dalı	İnceleme Alanı
I. Antropoloji	• Eski yazıları ve alfabeleri çözer.
II. Heraldik	
III. Epigrafi	
IV. Etnografya	• Armaları inceleyerek devletlerin özellikleri hakkında bilgiler verir.
V. Paleografya	

Tablodaki bilim dalları ile inceleme alanları eşleştirildiğinde hangi iki bilim dalı dışta kalır?

- A) I ve III B) I ve IV C) II ve III
D) III ve V E) IV ve V

2. Bir tarihçi: "Bu çalışma biçimiyle tarihçi güzel bir resim yapmak için en doğru renkleri seçmeye çalışan bir ressamın benzer. Tercih ettiği olaylar incelenen konuyu ne kadar iyi açıklıyorsa ortaya o derece güzel bir eser çıkar." demiştir.

Tarihçinin sözündeki "bu çalışma" aşağıdaki yargılardan hangisinde açıklanmıştır?

- A) Tarihçi olayları açıklarken yetersiz olduğu konularda başka bilim dallarından yararlanmalıdır.
B) Bir olayı hemen araştırmak yerine üzerinden belli bir sürenin geçmesi beklenmelidir.
C) Tarihsel çalışmalarda tarihçilerin konuya bakış açılarına göre farklı sonuçlarla karşılaşılabilir.
D) Tarihçiler araştırmalarında diğer tarihçilerin çalışmalarından yararlanma yoluna gitmelidir.
E) Geçmişe ait bir olay ancak tarihçi, onu tercih edip incelemeye başladığı zaman "tarihî olay" hâline gelir.

3. "Gelecekteki hayatımız için açık ve mantıklı bir takvim oluşturabilmek ancak bugüne gelinceye kadar izlediğimiz yolu bilmekle mümkün olacaktır."

Amerikalı diplomat Adlai Stevenson bu sözünü tarih biliminin aşağıdaki niteliklerinden hangisine işaret etmiştir?

- A) Faydası B) Konusu C) Yöntemi
D) Bilimselliği E) Kapsamı

4. "Eğer bir millet büyükse kendisini tanımakla daha büyük olur. Türk çocuklarında kabiliyet, her milletinkinden üstündür. Türk kabiliyet ve kudretinin tarihteki başarıları meydana çıktıkça büsbütün Türk çocukları kendileri için lazım gelen hamle kaynağını o tarihte bulabileceklerdir."

Mustafa Kemal'in bu sözü tarih biliminin aşağıdaki sorularından hangisine cevap niteliğindedir?

- A) Tarihin diğer bilimlerden farkı nedir?
B) Tarih öğrenmenin faydaları nelerdir?
C) Tarih biliminde hangi araştırma basamakları kullanılmalıdır?
D) Tarihte objektifliği sağlamak için neler yapılmalıdır?
E) Çocuklar tarih öğretimine hangi yaşlarda başlatılmalıdır?

5. Talas Savaşı "olay", Türklerin İslamlaşması ise "olgu"dur.

Bu bilgiyle olguyu, olaydan ayıran özellikler arasında aşağıdakilerden hangisi yoktur?

- A) Soyutluluk B) Genellilik C) Süreklilik
D) Özgünlük E) Tekrarlanabilirlik

6. "Tarih yazmak, tarih yapmak kadar önemlidir. Yazan yapana sadık kalmazsa değişmeyen hakikat, insanlığı şaşırtacak bir mahiyet alır."

Mustafa Kemal'in bu sözünün tarih araştırmalarında uygulanabilmesi için tarihçilerin dikkat etmesi gereken prensipler arasında aşağıdakilerden hangisi yoktur?

- A) Kanıtlanabilir nesnel bilgiler kullanma
B) Olayın meydana geldiği dönemdeki sosyoekonomik etkileri dikkate alma
C) Olayları meydana geldikleri zamanın şartlarına göre değerlendirme
D) Olay üzerinde daha önce yapılan çalışmalarını göz önünde bulundurma
E) Eserinde süslü ve ağır bir dil kullanma





7. Bir tarihçi "Örnek vermek gerekirse, Çanakkale Savaşı hakkında araştırma yaparken Osmanlı Devleti'nin ekonomik bakımdan sorun yaşadığı, askerinin bile günlük ihtiyacını karşılamakta zorlandığı, buna rağmen Türk askerinin inancıyla mücadele ettiği bu sayede Çanakkale Savaşı'nı kazandığı dikkate alınmalıdır." demiştir.

Tarihçinin bu bilgilerle aşağıdakilerden hangisinin önemini vurguladığı söylenebilir?

- A) Tarihin diğer bilimlerle ilişkisini
B) Tarihi olayların değerlendirilmesini
C) Tarih yazıcılığının serüvenini
D) Tarihçi yetiştirmenin önemini
E) Tarihte kaynakların sınıflandırılmasını

8. 1984 yılında Antalya'nın Elmalı ilçesinde kazılar sonucu bulunan Elmalı sikkeleri (Yüzyılın Definesi) o bölgede bulunan bütün şehir devletlerinin paralarını içeriyordu.

Tarih biliminin bu bilgilere ulaşmasını sağlayan bilim dalları arasında aşağıdakilerden hangisi yoktur?

- A) Coğrafya B) Kronoloji C) Nüvizmatik
D) Filoloji E) Arkeoloji

9. Aşağıdaki diyalogda Mısır ve Hitit kaynaklarına göre Kadeş Savaşı'nın değerlendirilmesi verilmiştir.

Mısır Kralı II. Ramses: Birdenbire ortalarında bulunduğum iki bin beş yüz düşman savaş arabasının, atlarımın önünde dağıldığını gördüm. Hiçbiri savaşacak güç bulamadı. Hiçbiri arkasına bakmadı, hiçbiri arkasına dönmedi düşen bir daha ayağa kalkamadı. Onları yendim

Hitit Kralı Muvattali: Bu savaşta Mısır kralını yendim ve ordularıyla Amurru halkını bozguna uğratarak topraklarını hâkimiyetim altına aldı.

Bu diyaloga göre aşağıdaki yargılardan hangisine ulaşılabilir?

- A) Tarihi olaylar toplumların bakış açılarına göre farklılık göstermektedir.
B) Tarih bilminde birinci elden kaynaklar daha kesin bilgiler vermektedir.
C) Bir tarihi bilgiye ulaşmak için üzerinden belli bir sürenin geçmesi gerekmektedir.
D) Tarihçiler olaylara olayın kahramanlarına göre daha objektif bakmaktadır.
E) Araştırmalarda hükümdarların anıları her zaman sübjektif sonuçlara neden olur.

10. Tarih araştırmalarında önemli sayılan aşağıdaki kavramlardan hangisi diğerlerinin nedeni olarak görülmektedir?

- A) Kaynak B) Araştırma C) Olay
D) Tarihçi E) Objektiflik

11. Nilay Öğretmen tarih dersinde; "Geçmişin ortaya çıkarılması bizi geçmişe götürecek birinci elden kaynaklar yardımıyla olur." demiştir.

Aşağıdakilerden hangisi bu kaynaklara örnek olarak gösterilemez?

- A) Kanuni Sultan Süleyman'ın Fransa kralına gönderdiği ferman
B) Göbeklitepe'de bulunan T şeklindeki taşlar
C) Kurtuluş Savaşı hakkında Turgut Özakman'ın "Şu Çılgın Türkler" isimli eseri
D) Yirmisekiz Mehmet Çelebi'nin *Paris Sefaretnamesi*
E) Kaşgarlı Mahmut'un kaleme aldığı "Divânü Lûgatî't-Türk" eseri

12. Tarih bilminde aşağıdaki yargılardan hangisinin ortaya çıkarılmasında doğrudan paleografi bilimi etkili olmuştur?

- A) İstanbul Antlaşması'yla Avusturya arşidükası Osmanlı sadrazamına eşit sayılmıştır.
B) Mısır'ın ilk kültür devirlerinden itibaren resimle tespit edilen yazılı işaretler farklı eşyalar üzerinde kullanılmıştır.
C) İslamiyet öncesi Türk devletlerinde, devletin başında kağan bulunurdu.
D) Dil ile tarih ve kültür arasındaki münasebeti bilen bir kimse dili tek başına almaz.
E) Eski Türk toplumlarında ilk sosyal birlik olan aile tüm hayatın çekirdeği durumunda idi.





TEST - 1

2. ÜNİTE

İnsanlığın İlk Dönemleri

1. Tarih Öğretmeni Çağlar Bey: "Örneğin, Anadolu'da Maden Devri'ne geçildiği sırada dünyanın başka yerlerinde insanlar hâlâ Taş Devirlerini yaşamaya devam etmişlerdir." demiştir.

Çağlar Bey bu örneği aşağıdaki yargılardan hangisi için vermiş olabilir?

- A) Yazı ilk defa Anadolu'da kullanılmaya başlanmıştır.
- B) Anadolu uygarlıkları farklı coğrafyalarda kurulmuş uygarlıklardan etkilenmemiştir.
- C) Anadolu'da kurulmuş uygarlıklar diğer uygarlıklardan daha ileri seviyede olmuştur.
- D) Tarih öncesi dönemler Anadolu'da sırasına uygun olarak yaşanmıştır.
- E) Tarih öncesi dönemler dünyanın her yerinde aynı anda başlayıp bitmemiştir.

2. Eski Taş Çağ'ında yontularak sivriltilen taşlar uzun sopaların ucuna takılarak daha kullanışlı hâle getirilmiş, taşlar keskinleştirilerek bıçak ve balta gibi kullanılmıştır. Hayvan kemiklerinden ve boynuzlarından zıpkın, mızrak uçları, iğne ve hançerler yapılmıştır.

Bu bilgilerden hareketle ilgili dönem hakkında aşağıdakilerden hangisi söylenemez?

- A) Geçim kaynağının avcılık olduğu
- B) İnsanların bilgi ve becerilerinin geliştiği
- C) Kesici aletlere ihtiyaç duyulduğu
- D) Toplu yaşam tarzının benimsendiği
- E) Hayvan ve taşlardan yararlandığı

3. Diyarbakır yakınlarında bulunan Çayönü kazılarında ağaç dalları ve kamışlardan yapılmış basit yuvarlak kulübelerin zaman içinde taş temelli kerpiç yapılara dönüştüğü görülmüştür.

Bu bilgiye dayanarak Çayönü ile ilgili aşağıdaki yargılardan hangisine doğrudan ulaşılabilir?

- A) Hayvancılık yapılmamıştır.
- B) Akarsu kenarlarına göç edilmiştir.
- C) Farklı kültürlerden yararlanılmıştır.
- D) İnsanların yaşantısı değişmiştir.
- E) İklim koşulları değişmiştir.

4. Konya Çatalhöyük'te evler birbirine bitişik ve düz damlı olarak aynı planda inşa edilmiştir. Bununla birlikte her evin duvarı ayrı olup duvarların bitişik olması nedeniyle evler arasında sokaklara yer verilmemiştir. Her yeni ev yanındakine göre biraz daha yüksekte inşa edilip evlere giriş damlarda açılan kapılardan sağlanmıştır.

Bu bilgiyle Çatalhöyük hakkında,

- I. İnsanları birlikte yaşamaya iten bir otorite vardır.
- II. Güvenlik anlayışı mimari yapıda etkili olmuştur.
- III. Toplumsal hayatta sınıf farklılıkları mevcuttur.

yargılarından hangilerine ulaşılabilir?

- A) Yalnız I
- B) Yalnız II
- C) Yalnız III
- D) I ve II
- E) I, II ve III

5. Sümer şehir devletlerinden Uruk'taki büyük tapınaktan çıkarılan kil tabletlerde tahıl çuvallarına ve büyükbaş hayvanların sayılarını ifade eden listelere rastlanmıştır.

Bu durum Sümerlerde aşağıdaki konulardan hangisi arasındaki ilişkinin bir sonucudur?

- A) Din - yönetim sistemi
- B) Yönetim - hukuk
- C) Ekonomik yapı - bilim
- D) Siyasi yapı - sosyal hayat
- E) Mimari - jeolojik yapı

6. Babiller düzenli gözlemler yapmak amacıyla gökyüzünü bölgelere ayırarak her bir bölgeye hayvan ve eşya isimleri vermişlerdir. Gözlemleri sonucunda Merkür ve Venüs'ün Güneş'in etrafında hareket ettiğini bulmuşlar, Ay ve Güneş tutulmalarının zamanını tespit edip Ay'ın evrelerini gösteren çizelgeler yapmışlardır.

Bu bilgiyle Babiller hakkında aşağıdakilerden hangisine ulaşılabilir?

- A) Astronomi bilimine önem verdiklerine
- B) Çalışmalarını belli bir disiplinde sürdürdüklerine
- C) Uygarlığın gelişimine katkı sağladıklarına
- D) Zamanı ve yaşamı anlamaya çalıştıklarına
- E) Farklı kültürlerin çalışmalarından yararlandıklarına





7. İlk Çağın önemli uygarlıklarından Çinliler; mimarlık, heykeltiricilik, resim, cam süsleme ve seramik sanatlarında gelişme göstermişler, ipek böcekçiliği ve ipekli dokuma işçiliğinde ileri gitmişlerdir. Tıpta kabul edilen masaj ve akupunktur yöntemlerini kullanmışlar, ayrıca kâğıt, barut, matbaa, mürekkep ve pusulayı bulmuşlardır.

Bu bilgiye dayanarak Çinliler ile ilgili aşağıdakilerden hangisine ulaşılabilir?

- A) Zengin bir coğrafyada yaşadıklarına
B) Teknik alanda buluşlar yaptıklarına
C) Toplumsal hayatta birliği sağladıklarına
D) Zanaat alanında ilerleme kaydettiklerine
E) Kültürel kalıplara önem verdiklerine

8. Yukarı Mezopotamya'da yaşayan ve ticaretle uğraşan Asurlular, Anadolu'da yaşayan insanlara çivi yazısını öğrettiklerini ve tarih çağlarına geçmesini sağlamışlardır.

Bu bilgiyle,

- I. Çivi yazısı Asurlular tarafından icat edilmiştir.
II. Anadolu uygarlıkları çevre kültürlerden etkilenmiştir.
III. Ticari faaliyetler kültürel etkileşime katkı sağlamıştır.

Yukarıdakilerden hangilerine ulaşılabilir?

- A) Yalnız I
B) Yalnız II
C) Yalnız III
D) I ve II
E) II ve III

9. İlk Çağ'da Urartuların; barajlar, sulama kanalları, kaleler, surlar, saraylar ve tapınaklar inşa etmesi aşağıdakilerden hangisine gereklik duyduklarının bir göstergesi olamaz?

- A) Teokratik bir yönetim sağlamaya
B) Güvenlik ihtiyacını karşılamaya
C) İbadet ihtiyacını gidermeye
D) Temel gereksinimleri karşılamaya
E) Tarımsal üretimi artırmaya

10. Tarih boyunca toplumlar hayat tarzları, sanat anlayışları, ekonomik faaliyetleri, beslenme şekilleri ve giyim kuşaklarıyla başka toplumlardan ayrılmıştır.

Bu farklılaşmanın en önemli sebebi aşağıdakilerden hangisidir?

- A) Hukuk
B) Eğitim
C) Din
D) Coğrafya
E) Ekonomi

11. Gerek tarih öncesi gerekse tarih devirlerinde insan toplulukları iklim değişiklikleri ve savaşlar gibi nedenlerle kitlesel olarak göç etmek zorunda kalmışlardır.

Bu durumun;

- I. yeni devletlerin kurulması,
II. kültürel etkileşimin artması,
III. nüfus artışının hızlanması

Yukarıdakilerden hangilerinde etkili olduğu söylenemez?

- A) Yalnız I
B) Yalnız II
C) Yalnız III
D) I ve II
E) II ve III

12. İlk Çağ'da; Sümerler "site", Mısırlılar "nom", Yunanlılar "polis", Persler "satraplık", Hititler "feodal yapı"lardan oluşmuştur.

Buna göre ilgili uygarlıklardan hangisinde siyasal birliğin daha güçlü olduğu söylenebilir?

- A) Sümer
B) Mısır
C) Yunan
D) Pers
E) Hitit






TEST - 2

İnsanlığın İlk Dönemleri

1. Aşağıdakilerden hangisi tarih öncesi dönemlerde ateşin bulunmasının insan hayatında değiştirdiği konulardan biri değildir?

- A) Beslenme alışkanlığı
- B) Haberleşme biçimi
- C) Temel uğraş alanı
- D) Korunma stratejisi
- E) Sindirim sistemi

2.



Tarih dersinde Özlem Öğretmen yukarıdaki temsili Neolitik Dönem görselini sınıfa göstererek ilgili dönem hakkında bilgi vermiştir.

Özlem Öğretmen'in bu açıklamayı yaparken ilgili dönem hakkında aşağıdaki hangi konuya değindiği söylenemez?

- A) Bilgi ve beceri seviyesi
- B) Güvenlik gereksinimi
- C) Geçim kaynağı
- D) Ticari faaliyetler
- E) Ehilleştirme bilgisi

3. Konya yakınlarındaki Çatalhöyük'te yürütülen kazılarda ahşap kaplar, kutular, kemiklerden yapılmış takılar, çakmak taşından hançerler ve bıçaklar ile obsidyen ok ve mızrak uçları, pişmiş topraktan yapılmış kap kacaklar ve bereket tanrıçası heykelleri bulunmuştur.

Bu sonuçlardan hareketle Çatalhöyük hakkında aşağıdakilerden hangisi söylenemez?

- A) Bir yerleşim alanı olduğu
- B) Geçim kaynağının avcılık olduğu
- C) İnanç kavramının oluştuğu
- D) Sanat anlayışının geliştiği
- E) Araç gereç yapmanın bilindiği

4. Bir tarih belgesinde: "Sümerler, kralın kontrolündeki ziggurat denilen tapınağa getirilen ürünü unutmamak ve belgelendirmek amacıyla her vatandaş için ürünlere ayrı bir işaret koymuşlar, işaretin karşısına da getirdiği ürünlerin resimlerini yapmışlardır. İdeogram denilen bu yazının zaman kaybına ve karışıklığa yol açtığını görünce de resimlerin yerine heceleri ifade eden, çiviye benzeyen işaretler kullanmaya başlamışlar böylece çivi yazısını bulmuşlardır." denmiştir.

Bu bilgilerden hareketle belgeselin konusu aşağıdakilerden hangisi olabilir?

- A) Çivi yazının hangi uygarlıklar tarafından kullanıldığı
- B) Zigguratların hangi amaçlar doğrultusunda yapıldığı
- C) Çivi yazının icat edilmesinde etkili olan faktörler
- D) Sümerlerde kralın halka karşı sorumlulukları
- E) Çivi yazının icat edilmesinin dünya kültürüne etkileri

5. • Mısırlılar tarafından icat edilen Güneş Takvimi'nin Batı uygarlıkları tarafından geliştirilmesi
• Sümer çivi yazısının Mısır, Anadolu, Suriye, İran ve Akdeniz havzasındaki pek çok kavim tarafından öğrenilmesi
• Fenike alfabesine İonyalılar, Romalılar ve Yunanların eklemeler yapması

Bu gelişmeler aşağıdakilerden hangisine örnek olarak gösterilebilir?

- A) Uygarlığın kültürel etkileşimlerle geliştiğine
- B) Kültürel etkileşimin göçlerle sağlandığına
- C) Yazının bulunmasıyla kültürel etkileşimin arttığına
- D) İlk icatların belli alanlarda sınırlı kaldığına
- E) Kültürel etkileşimle çatışmaların azaldığına

6. Namık Öğretmen dersinde: "Yaşanılan çevreyi tanıma, zamanı algılama, beslenme, barınma, hastalıklardan korunma ve iyileşme düşüncesi bilim alanında çalışmaların yapılmasında etkili olmuştur." demiştir.

Namık Öğretmen'in bu sözünü aşağıdakilerden hangisindeki bilimsel çalışmaları kastettiği söylenemez?

- A) Coğrafya
- B) Astronomi
- C) Tıp
- D) Kimya
- E) Felsefe



7. MÖ 4000'e doğru Nil Nehri etrafında gelişmiş bir medeniyet kuran Mısırlılar,

- Ticaret sırasında öğrendikleri çivi yazısından yola çıkarak hiyeroglif yazısını geliştirmişlerdir.
- Pi (π) sayısını 3,16 kabul ederek silindirin ve kürenin hacmini hesaplamışlardır.
- Ağrı kesiciler kullanarak diş çekimi ve tedavisi yapmışlar, ölümlerini mumyalamışlardır.
- Firavunların mezar odalarının yer aldığı piramitleri yapmışlardır.

Bu bilgilerden hareketle Mısırlılar hakkında aşağıdakilerden hangisi söylenemez?

- A) Mimari alanında özgün eserler bıraktıklarına
- B) Hükümdarlarını başrahip olarak gördüklerine
- C) Matematik ve tıp alanlarında ilerlediklerine
- D) Ölümden sonraki yaşama inandıklarına
- E) Mezopotamya kültüründen etkilendiklerine

8. Aşağıdakilerden hangisi dinin kültürel gelişmelerde etkili olduğunu gösteren örneklerden biri değildir?

- A) Mezopotamya'da astronomi çalışmalarının rahipler tarafından yapılması
- B) Yunanların tanrılar adına dört yılda bir olimpiyatlar düzenlemesi
- C) Hitit krallarının tanrılara hesap vermek için anallar yazması
- D) Filistin'e yerleşen İbranilerin, Yahudiliğe inanması
- E) Mısırlıların firavunları adına piramitler inşa etmesi

9. Hititlerle ilgili özelliklerden bazıları şunlardır:

- I. ilk meşruti krallık yönetiminin kurulması
- II. objektif tarih yazıcılığının ilk örneklerinin sunulması
- III. kadın haklarını korumaya yönelik insancıl düzenlemeler yapılması
- IV. siyasi yapının ilk dönemlerde feodal yapıdan oluşması

Bu uygulamalardan hangileri "demokratik" yönetimin özellikleriyle bağdaşabilir?

- A) I ve II
- B) I ve III
- C) II ve III
- D) II ve IV
- E) III ve IV

10. İlk Çağ uygarlıklarına ilişkin aşağıdakilerden hangisinde ilk cümlede verilenin ikinci cümlede verilen gelişmeye neden olduğu söylenemez?

- A) Lidyalıların parayı icat etmesi - Ticari faaliyetlere yönelmeleri
- B) Yunanlıların kolonicilik yapması - Kültürel etkileşime girmeleri
- C) Hint Uygarlığı'nda kast sisteminin olması - Birlik ve beraberliği sağlayamamaları
- D) Fenikelilerin dağlık bir bölgede yaşaması - Deniz ticaretine yönelmeleri
- E) Mısır Uygarlığı'nın doğal engellerle çevrili olması - Özgün bir kültür oluşturmaları

11. Strabon "Geographica" adlı eserinde ovalar, sahiller ve ılıman iklimin görüldüğü bölgelerde yaşayan toplumların daha medeni ve uysal olmasına karşın; dağlık ve yüksek bölgelerde yaşayan insanların medenilikten uzak ve kaba olduklarını belirtmiştir.

Strabon bu eserinde aşağıdakilerden hangisi arasındaki ilişkiye değinmiştir?

- A) İklim ve nüfus
- B) Uğraş alanı ve eğitim
- C) Coğrafya ve insan
- D) Yaşam tarzı ve askeri güç
- E) Toprak ve yaşam tarzı

12. Hammurabi Kanunlarına ait aşağıdaki hükümlerden hangisi özel mülkiyet anlayışını koruma düşüncesiyle daha az ilgilidir?

- A) Eğer bir adam, bir öküz kiralayıp ihmal ile veya dayakla öküzün ölümüne sebep olursa öküz sahibine, öküz yerine öküz ödeyecektir.
- B) Eğer bir adam, gemisini gemiciye kiraya verirse gemici ihmal edip gemiyi batırır veya yok ederse gemici, gemiyi sahibine ödeyecektir.
- C) Eğer bir adam tapınağa veya saraya ait bir eşya çalarsa o adam öldürülecektir ve çalınmış malı kabul eden öldürülecektir.
- D) Eğer bir mimar, bir adama ev yapıp yapıtını sağlam yapmazsa ve yaptığı ev çöküp evin sahibinin ölümüne sebep olursa o mimar öldürülecektir.
- E) Eğer bir adam, bir davada yalancı şahitliğe çıkıp söylediği sözleri ispat edemezse ve eğer bu dava cinayet davası ise o adam öldürülecektir.





TEST - 3

İnsanlığın İlk Dönemleri

1.



Fransa'daki Lascaux Mağarası'ndaki bu görselin aşağıdakilerden hangisi hakkında ipuçları verdiği söylenemez?

- A) Yaşanılan dönem
B) Sanat anlayışı
C) İnanç anlayışı
D) Uğraş alanı
E) Yaşam alanı

2. Diyarbakır - Çayönü yakınlarında çakmaktaşı ve obsiyen bulunmadığı halde 1964 yılında başlayan Çayönü kazılarında çakmak taşı, obsidyen ve bazalt taşlarından yapılmış aletler ortaya çıkarılmıştır.

Bu durumun en uygun açıklaması aşağıdakilerden hangisi olabilir?

- A) Başka toplumlarla ticaret yapılması
B) Bölge nüfusunun zamanla artması
C) Bilgi ve beceride gelişmeler olması
D) Madencilğe zamanla ilgi duyulması
E) İnsanlar arasında işbölümü oluşması

3. Şanlıurfa yakınlarında bulunan Göbeklitepe yerleşim yerine ait aşağıdaki bilgilerden hangisi, erken dönemlerde bile bir inanç anlayışının olduğuna kanıt olarak gösterilebilir?

- A) Avcı ve toplayıcı insanların tanrının varlığına inanması
B) İnsanların ibadet için düzenli aralıklarla bir araya gelmesi
C) T ve ters L harfleri biçiminde taş sütunlar yapılması
D) Ekonomik alanda farklı uğraşların yapılması
E) Taş sütunlarda değişik hayvan kabartmalarının olması

4.



Konya Çatalhöyük'e ait bu temsili resmin bölgede yaşayanlar hakkında aşağıdakilerden hangisinin bir göstergesi olduğu söylenebilir?

- A) Bir yönetici tarafından yönetilmenin
B) Bereketli bir bölgeye sahip olunduğunun
C) Farklı uygarlıklarla etkileşime geçildiğinin
D) Zengin maden yataklarına sahip olunduğunun
E) Toplumda kabilecilik anlayışının benimsendiğinin

5. Aşağıdakilerden hangisi, yazının icat edilmesinin katkı sağladığı gelişmelerden biri değildir?

- A) Bilginin muhafazasının sağlanması
B) Bürokratik işlemlerin kolaylaşması
C) İnanç anlayışının ortaya çıkması
D) Egemenliğin kalıcı hâle getirilmesi
E) Eğitim hizmetlerinin kolaylaşması

6. Aşağıdakilerden hangisi, bilimin insanın temel ihtiyaçlarını giderebilme çabasının sonucunda ortaya çıktığını gösteren örneklerden biri değildir?

- A) Yunanlı gemicilerin yön bulmak için Küçük Ayı takım yıldızını gözlemleyerek seyahat etmesi
B) Mısırlıların Nil Nehri'nin taşma zamanını tespit edebilmek için Güneş Takvimi'ni icat etmesi
C) Hintlilerin hastalıklara karşı yoga adıyla bilinen ve beden ile zihni uyumlu hâle getiren egzersizler geliştirmesi
D) Romalıların sefere çıkan ordunun su ve yiyecek bulabileceği yerleri belirlemek için coğrafya alanında ilerlemesi
E) Mezopotamya kanunlarına göre cerrahın hastayı iyileştirdiğinde ödüllendirilip, başarısız olduğunda ise cezalandırılması





7. Hipokrat, Anadolu kıyılarına yakın İstanköy Adası'nda kurduğu tıp okulunda öğrencilerine hasta başında klinik dersler vererek muayene, belirtileri gözleme ve tanı koyma yöntemlerini geliştirmiştir. Onun öğrencileri hekimlik mesleğine adım atarken bütün hastalara yardım edeceklerine, kimseye öldürücü ilaç vermeyeceklerine ve hastaların sırlarını saklayacaklarına dair yemin etmişlerdir.

Bu bilgiyle aşağıdakilerden hangisi Hipokrat'ın tıp alanındaki etkilerinden biri olarak gösterilemez?

- A) Tıp bilimini bir disipline dönüştürmesi
B) Ücretsiz muayene hizmetini başlatması
C) Tıp bilimini sağlık hizmetine dönüştürmesi
D) Doktorluk mesleğine kriterler getirmesi
E) Hasta mahremiyeti anlayışını getirmesi

8. Persler,

- Ülkelerini satraplık adı verilen eyaletlere bölerek yönetmişler ve tarihin ilk düzenli posta teşkilatını kurmuşlardır.
- Lidyalıların başkenti Sardes'ten kendi başkentleri Sus'a kadar uzanan ünlü Kral Yolu'nu yapmışlardır.

Bu bilgiye dayanarak Perslerin aşağıdakilerden hangisine önem verdiği söylenemez?

- A) Haberleşmeye
B) Merkezîyetçiliğe
C) Kalkınmaya
D) Göçebelîğe
E) Bayındırlığa

9. Friglerle ilgili bir proje hazırlayan Nihal, projesinde Friglerin tapetes adı verilen kilimleri ve çivi kullanmadan yaptıkları mobilyaları ile tanıdıklarını, ayrıca fibula denilen çengelli iğneleri icat ettiklerini, kayalarını oyarak kaya mezarları ve tapınaklar yaptıklarına değinmiştir. Son olarak Friglerin Fabl adıyla bilinen eserleri oluşturduklarına dikkat çekmiştir.

Buna göre Nihal'in proje ödevinin sonuç kısmında, Friglerin aşağıdaki alanların hangisinde gelişme gösterdiğinden söz etmesi beklenemez?

- A) Tarım
B) Edebiyat
C) Sanat
D) Dokumacılık
E) Mimari

10. Bir tarih araştırmacısı: "İlk Çağ'da yerleşik medeniyete yalnızca Bereketli Hilal'de değil, benzer coğrafi şartlara sahip başka bölgelerde de rastlanır." demiştir.

Araştırmacının benzer olarak gördüğü coğrafi şartlar aşağıdakilerden hangisi olabilir?

- A) Sıcak iklimler
B) Geniş araziler
C) Akarsu vadileri
D) Ormanlık alan
E) Deniz kıyıları

11. • Hitit kralı tanrı adına devleti yönetir, orduya başkomutanlık yapar, kanunları koyar ve başyargıç olarak bu kanunları uygulardı.
• Urartu kralları tanrı tarafından görevlendirildiklerine inanır ve ülkeyi onun adına yönetirdi.
• Sümerlerde her şehir devleti bir tanrı adına kurulur ve ensi ya da patesi denilen rahip krallar tarafından yönetilirdi.
• Mısırlılar firavunlarını yeryüzünde insanların arasında yaşayan bir tanrı olarak görür ve onun adına tapınaklar yaparlardı.

Bu bilgilerden hareketle ilgili uygarlıklar hakkında aşağıdakilerden hangisi söylenebilir?

- A) Hükümdarların egemenlik haklarını paylaşmadığı
B) Devleti yönetme yetkisinin bir hanedana verildiği
C) Toplumda din adamlarının ayrıcalıklı sayıldığı
D) Meşruiyet kaynağının dinsel nitelikte olduğu
E) Hükümdarların din adamları arasından seçildiği

12. Aşağıda Hitit hukukundan bazı örnekler verilmiştir.

- Bir kimse bir öküz veya bir keçi veya bir kuzu çalıp onu keser veya satarsa öküze bedel beş öküz, kuzu ve keçiye bedel dört kuzu veya dört keçi verecektir.
- Eğer bir adam ve bir kadın evlenir ve kendileri için bir çocuk yaparlarsa ve sonra onlar ayrılırlarsa adam ve kadın evi eşit olarak böler. Adam çocuklardan bir kısmını alır, kadın kendisi için bir çocuk alır.
- Eğer Hititli bir tüccarı herhangi bir kimse öldürürse 100 mine gümüş verir.

Bu bilgilerden hareketle Hitit hukukunda aşağıdakilerden hangisinin gözetildiği savunulamaz?

- A) Kişi hakları
B) Özel mülkiyet
C) Fidyeye usulü
D) Medeni hukuk
E) Sınıf farklılıkları





TEST - 1

3. ÜNİTE

Orta Çağ'da Dünya

1. Tarih dersinde; "Vizigotlar, Galya ve İspanya'yı ele geçirdiler. Burgonlar Rhone Vadisi'ne yerleşirken Franklar ve Alamanlar Galya'nın kuzeydoğusunu paylaştılar." denmiştir.

Bu bilgilere göre tarih dersinin konusu aşağıdakilerden hangisidir?

- A) Feodalite sisteminin özellikleri
- B) Roma İmparatorluğu'nun kuruluşu
- C) Avrupa etnik yapısının oluşumu
- D) Avrupa'da kurulan Türk devletleri
- E) Doğu Roma İmparatorluğu'nun yıkılışı

2. Orta Çağ'da Asya ve Avrupa devletleri meşruiyetlerinin kaynağını genellikle dine dayandırmışlardır. Bu anlayışa göre iktidarı ele geçiren yöneticiler devletin tanrısal bir kurum olduğunu, onun isteğiyle kurulduğunu, kendilerinin ise tanrının yeryüzündeki temsilcileri olduğunu söylemişlerdir.

Yöneticiler bu uygulamalarıyla aşağıdakilerden hangisini hedeflemiştir?

- A) Ruhban sınıfını ayrıcalıklı hâle getirmek
- B) Mutlak ve merkezi bir yönetim kurmak
- C) Ülkede inanç özgürlüğünü sağlamak
- D) Din adamlarının yetkilerini azaltmak
- E) Veraset usulünü sistemleştirmek

3. Alman İmparatoru Şarlman 800 yılında papa tarafından Kutsal Roma Germen imparatoru olarak kutsanmış ve onun elinden taç giymiştir.

Bu durum aşağıdakilerden hangisinin bir göstergesi sayılabilir?

- A) Teokratik bir yönetim anlayışının benimsendiğinin
- B) Toplumda dini nitelikte sorunlar yaşanmadığının
- C) Papanın siyasi gelişmelere karşı ilgi duymadığının
- D) Kralların din adamları tarafından seçildiğinin
- E) Alman imparatorunun dini yetkilere sahip olduğunun

4. Orta Çağ Avrupası'nda kuzeydeki denizci kavimler, Baltık Denizi'nden çıkan ringa balığını, kereste, katran, hayvansal yağlar, kürk, deri, bal, bal mumu, yün ve kehribar gibi ürünleri Karolenj İmparatorluğu'na satarken, bunların karşılığında altın, gümüş ve ipek almışlardır.

Bu bilgilerden hareketle,

- I. Germen kavimlerinin ticari faaliyetlerinde coğrafi yapı etkili olmuştur.
- II. Karolenj İmparatorluğu'nda tarım ve hayvancılık gelişmemiştir.
- III. Avrupa devletleri temel gereksinimlerini kıta içerisinden karşılamıştır.

yargılarından hangilerine ulaşılabilir?

- A) Yalnız I
- B) Yalnız II
- C) Yalnız III
- D) I ve II
- E) I, II ve III

5. Orta Çağ'da,

- İngiltere'de krallık gelirlerinin büyük bölümü koyun yetiştiriciliğinden sağlanıyordu.
- Almanya ve Rusya'da buğday yetiştiriciliği çok önemli gelir kaynağıydı.
- Fransa, bağcılık ve kumaş endüstrisinde kullanılan çivit otu üretimi ve tuz madenine sahip olmanın üstünlüğünü elinde tutuyordu.

Bu bilgiler devletlerin geçim kaynakları üzerinde aşağıdakilerden hangisinin etkisine örnek olarak gösterilebilir?

- A) Yüz ölçümün
- B) Coğrafyanın
- C) Nüfusun
- D) Yönetimin
- E) Teknolojinin

6. İslamiyet'in, Yahudilik ve Hristiyanlık dinlerine göre daha evrensel özellikler taşımasında aşağıdaki özelliklerinden hangisi **daha çok** etkili olmuştur?

- A) İlahi nitelikte bir din olması
- B) Irk ayrımına karşı gelmesi
- C) Eğitime önem vermesi
- D) Şer'i hukuku öngörmesi
- E) Yönetimde etkili olması





7. Moğol ordusu,
- Onlu sistem örnek alınarak teşkilatlandırılmıştır.
 - At üzerinde ok kullanabilen, hareketli, hafif süvarilerden meydana gelmiştir.
 - Askerleri, ok, yay, mızrak ve pala kullanmıştır.

Bu bilgilerde Moğol ordusunun aşağıdakilerden hangisindeki bilgilerine değnilmemiştir?

- A) Disiplini B) Sayısı C) Teşkilatı
D) Silahları E) Modeli

8. Feodalitede siyasi yönetim organizasyonunun en tepesinde mutlak egemenliğe sahip olmayan, yetkileri sınırlı bir kral oturuyordu. Kralın altında genel olarak senyör adıyla anılan kontlar, onların da altında daha az toprağa sahip olan dükler vardı. Feodal toplumun en alt katmanını köylüler oluşturuyordu.

Bu durum feodalitenin aşağıdakilerden hangisini barındırdığının bir göstergesi değildir?

- A) Toprağa dayalı düzeni
B) Toplumsal eşitsizliği
C) Monarşinin zayıflığını
D) Yerel yönetimleri
E) Ekonomik yeterliliği

9. 1215'te İngiliz Kralı Yurtsuz John'un, ülkesindeki feodal beylerin isteğiyle Magna Carta'yı ilan ederek kendi yetkilerini sınırlandırmak durumunda kalması, aşağıdakilerden hangisinin bir sonucu sayılabilir?

- A) Halkta demokrasi bilincinin gelişmesinin
B) Feodal beylerin insan haklarına önem vermesinin
C) Kralın iktidarını soylulara dayandırmasının
D) Aydınların halkın görüşlerini etkilemesinin
E) Milliyetçilik düşüncesinin hızla yayılmasının

10. Hakan Öğretmen dersinde; ribat, liman, han konularında bilgi verdikten sonra aynı amaca hizmet eden başka hangi örneklerin olabileceğini öğrencilerine sormuştur.

Buna göre öğrencilerin doğru olarak vereceği örnekler arasında aşağıdakilerden hangisi gösterilemez?

- A) Kapan B) Arasta C) Bedesten
D) İmarethane E) Kervansaray

11. Roma İmparatorluğu'nda On İki Levha Kanunlarıyla,

- Suçluların devlet tarafından yargılanıp cezalandırılacağı esası getirilerek zarara uğrayanların kişisel öç almaları yasaklanmıştır.
- Yalancı şahitlik ve rüşvet almak gibi suçlara ağır cezalar verilmiştir.
- Hırsızlıkta suçüstü yakalananların bu suçu gece vakti işleyenlerin veya yakalanacağını anladığında silah kullananların öldürülmesine izin verilmiştir.
- Vatana ihanet, büyücülük ve sihir yapmak ölümlle cezalandırılmıştır.

Çıkarılan bu kanunlar aracılığıyla gerçekleştirilmesi düşünülen hedefler arasında aşağıdakilerden hangisi gösterilemez?

- A) Şahsi eylemlere sınırlama getirmek
B) Dinin yönetime olan etkilerini engellemek
C) Özel mülkiyet hakkını koruma altına almak
D) Devletin farklı unsurlarını ülke bünyesine tutmak
E) Savaşlarda yaşanabilecek olası kayıpları önlemek

12. On İki Levha Kanunlarında hırsızlık yaptığı sonradan ortaya çıkanlara, çaldığı malın iki katı ödeme yapma cezası verildiği hâlde Cengiz Yasası'nda bu oran dokuz kat olarak belirlenmiştir.

Bu bilgiyle,

- I. Toplumlar arasındaki farklılıklar hukuk kurallarını ve bunların uygulanma şekillerini de farklılaştırır.
II. Hukuk sisteminde bir suçta verilen ceza miktarı ilk dönemlerden günümüze geldikçe artmıştır.
III. Bir toplumdaki suç miktarı o suçta hukuk sisteminde verilen ceza oranıyla paralellik gösterir.

yargılarından hangilerine ulaşılabilir?

- A) Yalnız I B) Yalnız II C) Yalnız III
D) I ve II E) I,II ve III





TEST - 2

Orta Çağ'da Dünya

1. Roma İmparatorluğu, MS 375 yılında başlayan Kavimler Göçü sırasında uğradığı saldırılar nedeniyle zayıflayarak 395 yılında ikiye ayrılmıştır.

Bu bilginin aşağıdaki sorulardan hangisine cevap niteliğinde olduğu söylenebilir?

- A) Büyük göçlerin yapılmasında etkili olan faktörler nelerdir?
- B) Roma İmparatorluğu'nun ikiye ayrılması zamanla hangi gelişmelere yol açmıştır?
- C) Avrupa'da meydana gelen gelişmelerin Asya kıtasına olan etkileri nelerdir?
- D) Devletlerin ve toplumların yapılarında meydana gelen köklü değişimlerin nedenleri neler olabilir?
- E) Tarihte kıtalar arası yapılan göçler hangi amaçlar doğrultusunda yapılmıştır?

2. Tarih öğretmeni, Eylül'e ödev olarak Orta Çağ'da Yaşanan Gelişmeler konusunu vermiştir. Eylül hazırladığı ödevde Orta Çağ'da gelişmelerden beşini yazmış ancak öğretmeni bunlardan birinin yanlış olduğunu belirtmiştir.

Buna göre öğretmenin, Eylül'ün ödevinde yanlış olduğunu belirttiği gelişme aşağıdakilerden hangisidir?

- A) Katolik-Ortodoks bölünmesinin yaşanması
- B) Büyük Hun Devleti'nin yıkılması
- C) İslamiyet'in Hindistan'da yayılmaya başlaması
- D) Avrupa'da veba salgınının yaşanması
- E) Moğol İmparatorluğu'nun kurulması

3. Orta Çağ'da Frank Kralı Clovis, Katolikliği seçerek kiliseye bağlılığını ön plana çıkarmıştır.

Frank kralının bu uygulamayla;

- I. ülke sınırlarını genişletmek,
- II. kiliseye bağlı toplulukları itaat altına almak,
- III. Hristiyanlıktaki mezhep ayrılıklarını sonlandırmak

amaçlarından hangilerini gözettiği savunulabilir?

- A) Yalnız I
- B) Yalnız III
- C) I ve II
- D) II ve III
- E) I, II ve III

4. Kilise tarihçisi Panayotis Christou'nun: "Bizanslılar yeryüzündeki imparatorluklarının tanrının krallığının bir görünümü olduğuna inanırlardı." demiştir.

Tarihçinin bu sözü Bizans'ta aşağıdakilerden hangisinin olmadığını göstermektedir?

- A) Teokratik anlayışın
- B) Mezhep birliğinin
- C) Güçlü orduların
- D) Ruhban sınıfının
- E) Laik yönetimin

5. Bir sempozyumda aşağıdaki bilgiler verilmiştir.

- İran'da hüküm süren Sasanilerde kral Zerdüştlük dininin simgesi olan kutsal ateşin koruyucusu kabul edilmiştir.
- Orta Asya Türk devletlerinde halk, ülkeyi yöneten hakana bu yetkinin Gök Tengri tarafından verildiğine inanmıştır.
- Çinliler, imparatorlarına "tanrının oğlu" demişlerdir.

Bu bilgilerin aşağıdakilerden hangisi için verildiği söylenebilir?

- A) Siyasi yapıların meşruiyet kaynağı
- B) Teokratik yönetimin uygulanma biçimleri
- C) Uygartıklarda görülen dinsel benzerlikler
- D) Hükümdarların dini ve siyasi yetkileri
- E) İlahi dinlerin yönetimlere etkisi

6. Venedikli tüccarlar, Balkan ülkelerinden gelen demiri ve keresteyi bunlara en fazla ihtiyacı olan Mısır ve Suriye'nin kıyılarına taşımışlardır. Dönüşte de Baharat Yolu ile Doğu Akdeniz kıyılarına taşınmış olan karabiber, tarçın, karanfil, şeker kamışı, Hindistan cevizi gibi değerli malları Bizans limanlarına ve Avrupa'ya getirmişlerdir.

Bu bilgilerde Venedik'le ilgili aşağıdakilerden hangisine ulaşılamaz?

- A) Çevreyle ilişkilerine
- B) Jeopolitik konumuna
- C) Egemenlik alanına
- D) Geçim kaynağına
- E) Ticaret ürünlerine



7. İslam devletindeki yönetim anlayışı Emevi ailesinin işbaşına gelmesiyle birlikte değişmiş, halifelik babadan oğula geçen bir saltanata dönüştürülmüştür.

Bu durum Emeviler öncesi İslam devletinde aşağıdakilerden hangisinin olmadığını bir göstergesidir?

- A) Teokratik bir yönetimin
B) Merkezîyetçilik anlayışının
C) Siyasal istikrarın
D) Soy dayanışmasının
E) Başkentten yönetimin

8. Aşağıdakilerden hangisi Orta Çağ'da devletlerin askeri organizasyonlarında coğrafya faktörünün etkili olduğunu gösteren örneklerden biridir?

- A) Vikinglerin en güçlü silahının yüksek manevra yeteneğine sahip gemiler olması
B) Moğollarda ok uçlarının kalın zırhları delebilecek şekilde tasarlanması
C) Bizans ordusunun yayalar ve süvariler olmak üzere iki kısımdan meydana gelmesi
D) Sasani ordusunda süvarilerin İran'ın soylu ailelerinden seçilmesi
E) Türk devletlerinde ordunun onlu sisteme göre teşkilatlandırılması

9. Bir tarihçi feodalite hakkında: "Bu düzende kral dâhil hiç kimse tam yetkili değildi. Kont nasıl kralın adamıysa dük de kontun adamıydı ve bütün önemli kararları birlikte alırlardı. Bundan dolayı kral iktidarını korumak için soylularla iyi geçinmek ve onların isteklerini kabul etmek zorundaydı." demiştir.

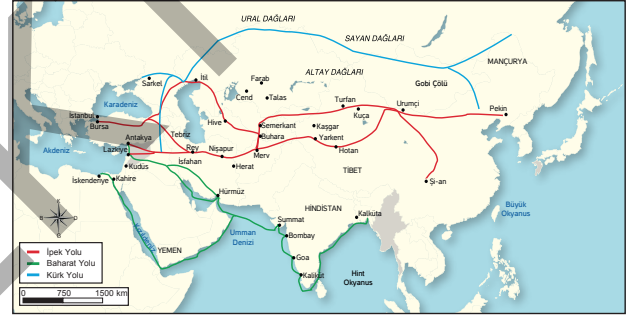
Tarihçi bu görüşüyle feodalite sisteminin temelinde aşağıdakilerden hangisinin olduğunu vurgulamıştır?

- A) Özgürlük
B) İtaat
C) Liyakat
D) Hoşgörü
E) Hukuk

10. Sasani Devleti'nde toplumun; aristokratlar, rahipler, kâtipler, orta boy toprak sahipleri, köylüler ve köleler gibi toplumsal sınıflardan oluşması, aşağıdakilerden hangisini göstermektedir?

- A) Halkın yaşam düzeyinin yüksek olduğunu
B) Halk arasında belirli mesleklere önem verildiğini
C) Halk arasında eşitsizlik olduğunu
D) Yöneticilerin yetkilerine göre gruplara ayrıldığını
E) Şehirli sınıfının tüketici konumunda olduğunu

11.



Orta Çağ'ın başlıca ticaret güzergâhlarını gösteren bu haritaya göre aşağıdakilerden hangisi söylenemez?

- A) Doğu dünyasının ticaret hayatında belirleyici olduğu
B) Ticaret yollarının denizlerle bağlantısının olduğu
C) Ticareti yapılan ürünlere göre güzergâhlara isim verildiği
D) Ticaret güzergâhlarının uzun mesafelerden oluştuğu
E) Uluslararası ticaret güzergâhının Anadolu'da sona erdiği

12. Cengiz Han'ın yasalarının onun ölümünden sonra kendi soyundan gelenlerin kurduğu Moğol devletlerinde, Anadolu ve İran'da kurulan Türk devletlerince hazırlanan yasakname adlı hukuk metinlerinde kullanılması, aşağıdaki özelliklerinden daha çok hangisinin bir sonucudur?

- A) Tomarlar halinde muhafaza edilmesi
B) Uyurca kaleme alınması
C) Türk töresinden alıntılar yapılması
D) Birçok soruna çözüm getirmesi
E) Farklı konularda hükümler içermesi





TEST - 3

Orta Çağ'da Dünya

1.



Orta Çağ'da dünya düzenini gösteren bu haritaya göre aşağıdakilerden hangisi söylenemez?

- A) Avrupa'da feodaliteye dayalı bir siyasal yapının oluştuğu
- B) Moğol İmparatorluğu'nun geniş bir alanda hâkimiyet sağladığı
- C) Bizans İmparatorluğu'nun stratejik bölgelere hâkim olduğu
- D) Sasani İmparatorluğu'nun denizler civarında olduğu
- E) Barbar kavimlerin Avrupa siyasi yapısında etkin olduğu

2.

Orta Çağ'ın ilk dönemlerinde Germen kavimleri tarafından kurulan krallıklarda, "halk kralları" adıyla anılan Germen kralları sınırsız yetkilere sahip değildi. Yönettiği kavimlerin gelenek-göreneklerine aykırı davranan ve görevlerini yerine getirmeyen bir kral iktidardan uzaklaştırılabilir. Başka bir deyişle kral, yönetme yetkisini halktan almakta ve ona karşı sorumlu olmaktaydı.

Bu bilgiden hareketle, Germen krallıklarının sözü edilen dönemle ilgili olarak aşağıdakilerden hangisi söylenemez?

- A) Kralların sıklıkla değiştiği
- B) Demokratik bir anlayışın benimsendiği
- C) Sivil nitelikteki kişilerin yönetime getirildiği
- D) Ülke yönetiminde istikrarsızlığın yaşandığı
- E) Hanedan değişikliklerinin sık sık tekrarlandığı

3.

Emeviler Devleti'nde hükümdarlar Allah adına hareket ettiklerini göstermek için "halife" unvanını kullanmışlardır. Aynı şekilde Abbasi halifeleri de Allah'ın yeryüzündeki temsilcileri olduklarını söylemişlerdir.

Aşağıdakilerden hangisi bu uygulamayla gözetilenlerden biri olarak gösterilebilir?

- A) Yöneticilerin seçimini kolaylaştırmak
- B) Toplumsal hayatta eşitliği sağlamak
- C) Din ve devlet işlerini birbirinden ayırmak
- D) Ülke yönetiminde merkezî otoriteyi sağlamak
- E) Din adamlarının ayrıcalıklı hâle gelmesini önlemek

4.

Orta Çağ Avrupası'nda Karolenj İmparatorluğu geniş tarım alanlarının bulunduğu Fransa, Almanya, Kuzey İtalya, Hollanda ve Belçika'ya yayılmışken, aynı devlet Pirene Dağlarını aşamadığı için Fransa'dan İspanya'ya geçememiş, bununla birlikte İspanya üzerinden Avrupa içlerine doğru ilerleyen Müslüman Arapları da yine bu doğal engel yardımıyla durdurabilmiş, Akdeniz dünyası ile bağlantısını Alp Dağları üzerindeki vadiler ve geçitler üzerinden kurmuştur.

Bu bilgilerde Karolenj İmparatorluğu hakkında aşağıdakilerden hangisine yer verildiği söylenemez?

- A) Coğrafi yapı
- B) Geçim tarzı
- C) Askeri yapı
- D) Egemenlik alanı
- E) Çevreyle ilişkiler

5.

Sasanilerde hükümdar bir aileden gelirken, eyalet valileri genellikle asil kabul edilen ailelerden seçilirdi. Yüksek makamlar babadan oğula geçer ve tek bir aile içinde nesiller boyunca devam ederdi.

Bu durum Sasanilerde aşağıdakilerden hangisinin bir göstergesi değildir?

- A) Saltanat yönetiminin
- B) Sınıf farklılıklarının
- C) Soy dayanışmasının
- D) İmtiyazlı ailelerin
- E) Liyakatli yönetimin

6.

Orta Çağ'da soylular yetiştirdikleri şövalyelerin ve köylülerin yardımıyla buldukları yerlerin güvenliğini sağlayıp, korunaklı şatolar yapmışlar, böylece istilalara karşı arazilerini koruma kaygısı içinde bulunan çevredeki diğer toprak sahiplerini yanlarına çekmişlerdir. Bir yandan da kraldan kendi adlarına vergi ve asker toplama, yargılama yapma gibi siyasi yetkiler olarak güçlerini artırmışlar, IX. yüzyıldan itibaren Avrupa'nın hâkim yönetim anlayışı hâline gelecek olan feodalitenin temellerini atmışlardır.

Bu bilgilere göre feodalitenin aşağıdakilerden hangisinin olduğu bir dönemde çıktığı söylenemez?

- A) Kent yaşamının gerilediği
- B) Güvensizliğin arttığı
- C) Nüfusun azaldığı
- D) Ticaretin gerilediği
- E) Merkezî otoritenin zayıfladığı





7. Feodalitede, koruma altına girene vassal, korumayı kabul eden senyöre süzeren denirdi. Tarafların İncil üzerine yemin ederek başlattıkları bu ilişki iki özgür insanın kendi iradeleriyle yaptıkları bir tür sözleşmeyle kuruluyordu.

Bu bilgiyle feodalite hakkında,

- I. Din, hiyerarşik ilişkilerde belirleyicidir.
II. İtaat ve kollama beklentilerine dayalıdır.
III. Halk, seçimlerinde özgürdür.

yargılarından hangilerine ulaşılabilir?

- A) Yalnız I
B) Yalnız II
C) I ve II
D) II ve III
E) I, II ve III

8. Orta Çağ'daki hâkim anlayışa göre tanrı yeryüzünde sağlamak istediği düzeni senyörler eliyle kurmuştu. Bu nedenle senyörler, din adamlarına toprak bağışları yaparak kiliseye bağlı halk ile manevi bir bağ kurmaya önem veriyorlardı.

Bu anlayış aşağıdakilerden hangisinin bir göstergesidir?

- A) Güç odakları arasında iş birliği olduğunun
B) Yöneticilerin din adamları tarafından belirlendiğinin
C) Halkın manevi duygularının yüksek olduğunun
D) Toprağın gerçek sahibinin din adamları sayıldığıının
E) Senyörlerin dini yetkilerle hareket ettiklerinin

9. Bir tarihçi; "Bizans imparatorları otokrat bir lider haline gelmiştir." demiştir.

Tarihçinin bu görüşünü Bizans imparatorları hakkında aşağıdakilerden hangisine dayandırdığı söylenebilir?

- A) Gücünü tanrıdan almasına
B) Yönetime miras yoluyla gelmemesine
C) Ordularına komutanlık yapmasına
D) Uzun süre tahtta kalmasına
E) Farklı konularda yetkisinin olmasına

10. Roma İmparatorluğu'nda, evlenenlerden birinin köle olması ve aralarında yakın akrabalığın bulunması evlenmeyi engelleyici neden olarak görülürdü. Bunun yanında kızların 12, erkeklerin 14 olan evlenme yaşına gelmiş olmaları ve akıl hastası olmamaları gerekiyordu. Evlenen kadının kendi ailesiyle olan akrabalığı, akrabalarına karşı olan hak ve yükümlülükleri sona erer kadın, bütün hukuki sonuçlarıyla kocasının ailesine katılırdı. Bu durumda her ailenin kendine ait bir dini ve ibadet usullerinin bulunması, kadının, iki ayrı dine birden bağlı kalamaması etkili olmaktadır.

Bu bilgilerde Roma hukukunun şekillenmesine etki eden aşağıdaki hangi faktöre değinilmemiştir?

- A) Akrabalık ilişkileri
B) Sosyal düzen
C) Eğitim seviyesi
D) Dini usuller
E) Sağlık koşulları

11. Orta Çağ'da yılda bir defa kurulan panayırın yerini zamanla haftalık pazarlar almış, bu pazarlar sadece şehirlerde değil ihtiyaca göre kasaba ve köylerde de kurulmuştur.

Bu durum aşağıdakilerden hangisinin arttığıının bir göstergesidir?

- A) Nüfus sayısının
B) Toplumsal birlikteliğinin
C) Ticari faaliyetlerin
D) Özel mülkiyetin
E) Sınıfsal farklılıkların

12. Bir tarihçi, konar-göçer toplamlarda askerî yapının güçlü olduğunu söylemiştir.

Tarihçinin bu görüşünü konar-göçerlerin aşağıdaki özelliklerinden hangisine dayandırdığı söylenemez?

- A) Ailelerini ve mallarını korumak için savaşçı yapıda olmaya önem vermelerine
B) Ticaret hayatında genellikle hayvansal ürünleri ihraç etmelerine
C) Avlanmayı ve savaş taktiklerini askerî tatbikata dönüştürmelerine
D) Ata binme ve ok atma yarışları düzenleyerek cirit ve güreş oyunları oynamalarına
E) Üretemedikleri ürünleri yerleşiklerden almak için yapılan askerî organizasyonlara





TEST - 1

4. ÜNİTE

İlk ve Orta Çağlarda Türk Dünyası

1. Türk adı ilk olarak Çin kaynaklarında geçmiştir. Altay Dağlarını miğfere benzeten Çinliler, bu dağların eteklerinde oturan ve demircilikle uğraşan kavme de miğfer anlamına gelen "Türk" adını vermişlerdir.

Bu bilgiye dayanarak Türkler ile ilgili aşağıdakilerden hangisine ulaşamaz?

- A) Çinliler tarafından muhabata alındıkları
- B) Çin kaynaklarından etkilendikleri
- C) Madencilik alanında ilerledikleri
- D) Belli zanaatlara ilgi duydukları
- E) Altay Dağları civarında yaşadıkları

2. Sercan Öğretmen: "VI. yüzyıl ortalarında Kök Türklerin başında bulunan Bumin, Avarlara karşı başlattığı bağımsızlık mücadelesini kazanarak 552 yılında I. Kök Türk Devleti'ni kurmuştur. Merkezi Ötüken olan Kök Türk Devleti, Türk adını taşıyan ilk devlet olarak tarihe geçmiştir." demiştir.

Sercan Öğretmen'in bu bilgilerde I. Kök Türklerle ilgili aşağıdakilerden hangisine değindiği söylenemez?

- A) Kurucusu
- B) Başkenti
- C) Hâkimiyet anlayışı
- D) Kuruluş tarihi
- E) Ulusçu yönü

3. Asya Hun Devleti'nden başlayarak İç Asya'da kurulan Türk devletlerinde hâkimiyetin kaynağı ilahi bir güç olan Gök Tengri'ye dayanıyordu. Bu anlayışa göre, Gök Tengri yeryüzünü doğrudan kendisi değil, Türk kağanı eliyle yönetiyordu. Kağan hükmetme ayrıcalığını Gök Tengri'nin kendisine bağışladığı devleti idare etme yetkisinden alıyordu.

Bu anlayışın Türk devletlerinde aşağıdakilerden hangisine ortam hazırladığı söylenbilir?

- A) Din adamlarının yönetimde görev almasına
- B) Yönetimin teokratik nitelik göstermesine
- C) Yaşça büyük hanedan üyesinin tahta geçmesine
- D) Hükümdarların dinî alanda yetkilere sahip olmasına
- E) Yöneticilerin meşruiyetini daha kolay sağlamasına

4. Asya Hun Hükümdarı Mete Han, Tunguzların toprak isteklerini destekleyen devlet adamlarına "Devletin temeli olan toprağı biz nasıl verebiliriz? diyerek onları idam ettirmiş, ardından da Tunguzların üzerine yürüyerek ani baskınla bu kavmi yenilgiye uğratmıştır.

Bu tutumuyla Mete Han;

- I. topraksız bir devletin düşünülmemeyeceği,
- II. toprakların tarım ekonomisinde önemli olduğu,
- III. topraklar hakkında istişareye yer verilmeyeceği

durumlarından hangilerini göstermek istemiştir?

- A) Yalnız I
- B) Yalnız III
- C) I ve II
- D) II ve III
- E) I, II ve III

5. Günlerden bir gün Oğuz Kağan'ın deneyimli bilge veziri Uluğ Bey rüyasında bir altın yay ve üç gümüş ok gördü. Altın yay gün doğuşundan gün batışına doğru gidiyordu. Uluğ Bey rüyasını Oğuz Kağan'a anlattı ve şöyle dedi: "Ey kağanım, senin ömrün hoş olsun. Gök Tanrı düşümde verdiği gerçeğe dönüştürsün. Tanrı bütün dünyayı senin soyuna bağışlasın." Oğuz Kağan, Uluğ Bey'in sözünü beğendi. Büyük bir kurultay topladı ve halkını çağırdı. Kırk gün kırk gece yediler, içtiler, sevindiler. Sonra Oğuz Kağan yurdunu altı oğlu arasında paylaştırdı ve onlara şöyle seslendi: "Ey oğullarım! Ben çok yol aştım, çok vuruşmalar gördüm. Çok kargı ve çok ok attım. Atla çok yürüdüm. Düşmanları ağılattım, dostlarımı güldürdüm. Ben Gök Tanrı'ya borcumu ödedim. Şimdi yurdumu size veriyorum.

Oğuz Kağan Destanı'ndaki bu ifadelerde Oğuzlarla ilgili aşağıdakilerden hangisine değnilmemiştir?

- A) Hâkimiyet kaynağı
- B) Cihan hâkimiyeti
- C) Hükümdarın görevleri
- D) Kurultay yapısı
- E) İnanç anlayışı

6. Türk devletlerinde kağanlar devletin kuruluşunda veya tahta çıktıktan sonra ilk iş olarak töreyi düzene koyardı.

Kağanların bu uygulamayla;

- I. keyfi yönetimi engellemek,
- II. veraset sistemini düzenlemek,
- III. kanun hâkimiyetini sağlamak

amaçlarından hangilerini gözetttiği savunulabilir?

- A) Yalnız I
- B) Yalnız II
- C) I ve III
- D) II ve III
- E) I, II ve III





7. Türk töresinde; adam öldürmek, barış zamanında kılıç çekmek, zinada bulunmak, hayvan kaçırmak, hırsızlık yapmak ve benzeri hareketler kesin olarak yasaklanmıştır.

Aşağıdakilerden hangisi bu esaslarda gözetilenlerden biri değildir?

- A) Kolektif ceza B) Adalet C) Kişi hakları
D) Özel mülkiyet E) Yaşam hakkı

8.



Eski Türk topluluklarına ait bu görselin Türkler hakkında aşağıdakilerden hangisine işaret ettiği söylenemez?

- A) Uğraş alanı B) Yaşam tarzı C) Mesken alanı
D) Kıyafet biçimi E) Askerî güç

9. Avrupa Hun Devleti ile Roma İmparatorluğu arasında imzalanan Margus Antlaşması'nda;

- Doğu Roma İmparatorluğu, ülkesinden kaçan Hunlara sığınma hakkı vermeyecek, daha önce sığınmış olanları da iade edecektir.
- İki taraf arasındaki ticari faaliyetler belirli sınır kasabalarında eşit şartlarda devam edecektir.
- Doğu Roma İmparatorluğu, Hunların savaş hâlinde olduğu kavimlerle ittifak yapmayacaktır.

maddeleri yer almıştır.

Bu maddelerden hareketle aşağıdakilerin hangisine ulaşamaz?

- A) Avrupa Hunlarının siyasi olarak başarı kazandığına
B) Doğu Roma İmparatorluğu'nun, askerî olarak başarısız olduğuna
C) Doğu Roma İmparatorluğu'nun dış politikada Avrupa Hunlarıyla birlikte hareket edeceğine
D) Avrupa Hunlarının ticari faaliyetleri geliştirmek istediğine
E) Doğu Roma İmparatorluğu'nun Avrupa Hunlarının diplomatik isteklerine boyun eğdiğine

10. 630 yılında Volga ile Dinyester Nehirleri arasında kurulan Hazarlarda, hakan ve saray halkı Museviliği kabul etmiş, ayrıca ülkelerinde Hristiyanlık ve Müslümanlık gibi diğer dinlere de izin verilmiştir.

Bu durum Hazarlarda aşağıdaki niteliklerden hangisine uygun bir ortam olduğunun kanıtı değildir?

- A) Ulusal B) Laik C) Barışçı
D) Hoşgörülü E) Sosyal

11. Çinliler: "Türkleri üstün yapan atlıları ve okçularıdır. Kendilerine uygun gelirse şiddetle saldırırlar, tehlikede olduklarını sezerlerse rüzgâr gibi kaçarlar, şimşek gibi kaybolurlar." demiştir.

Yalnız bu bilgiye göre Türklerle ilgili olarak;

- I. savaşlarda disiplinle hareket ettikleri,
II. orduda onlu sistemi oluşturdukları,
III. savaş stratejilerini etkin kullandıkları

ifadelerinden hangilerine ulaşılabilir?

- A) Yalnız I B) Yalnız II C) I ve III
D) II ve III E) I, II ve III

12. II. Kök Türk Devleti hükümdarlarından İnal Kağan, devlet yönetiminde başarısız olunca halk arasında "Kut ondan memnun kalmadı." şeklinde bir kanaat belirmiş, bunun üzerine kağan kuzenleri Bilge ve Kül Tigin kardeşler tarafından tahttan indirilmiştir.

Bu bilgiyle aşağıdakilerden hangisine ulaşılabilir?

- A) Hükümdarların halk tarafından belirtildiği
B) Kut anlayışının halk tarafından sorgulandığı
C) Hanedan değişikliklerinin çok sık yaşandığı
D) Düzenli bir veraset sisteminin olduğu
E) Kut yetkisinin başarıya göre verildiği





1. Türk dili ve Türk tarihi üzerine araştırma yapan bilim insanların elde ettikleri bilgilere göre,
- Uygurlar zamanına ait belgelerde Türk sözü güç, kuvvet ve olgunluk anlamlarına gelmektedir.
 - Kaşgarlı Mahmut, *Divanü Lügati't-Türk* adlı eserinde "Türk" sözünün olgunluk çağı anlamına geldiğini belirtmiştir.
 - XIX. yüzyılda Danimarkalı bilgin Wambery, Türk kelimesinin "türemek" fiilinden geldiğini ileri sürmüştür.
 - Ziya Gökalp, Türk adının "töre sahibi" anlamındaki "türelî" sözcüğünden geldiğini söylemiştir.

Bu bilgilerden hareketle aşağıdaki yargılardan hangisine ulaşamaz?

- A) Türkler hakkındaki ilk bilgilere Uygur belgelerinde rastlanmıştır.
- B) Türk kelimesi hakkında Türk ve yabancı bilim insanları araştırma yapmıştır.
- C) Uygurlar ve Kaşgarlı Mahmut, Türk kelimesini birbirlerine yakın anlamlarda kullanmıştır.
- D) Wambery ve Ziya Gökalp Türk kelimesiyle ilgili linguistik çalışmalar yapmıştır.
- E) Türk kelimesinin anlamına yönelik birçok dönemde araştırma yapılmıştır.

2. Karasuk kültürüne ait kazılarda; küpeler, düğmeler ve diğer elbise süsleri ile kemikten iğneler ve kabzaları hayvan figürleriyle süslenmiş hançerler bulunmuştur.

Bu bilgilerden hareketle Karasuk kültüründe yaşayanlar hakkında aşağıdakilerden hangisi söylenemez?

- A) Hayvanlardan yararlandıkları
- B) Sanat eserleri yaptıkları
- C) Süslemecilikte ileri gittikleri
- D) Araç gereç yapmayı bildikleri
- E) Dağınık halde yaşadıkları

3. Eski Türk devlet ve toplumlarına ilişkin aşağıdakilerden hangisi Türklerde ulusçuluk düşüncesinin güçlü olduğu gösteren örneklerden biri değildir?

- A) Çin esaretini sonlandırmak için Kürşat ve 39 arkadaşının Çin sarayını basması
- B) Kök Türklerin, Türk ismini devlet ismi olarak kullanması
- C) Mete Han'ın, Çin'i yendiği halde bu ülkenin topraklarına yerleşmeyi yasaklaması
- D) I. Kök Türklerin İpek Yolu hâkimiyeti için Ak Hunlara karşı Sasanilerle iş birliği yapması
- E) Uygurların Manihaizm inancına ait kelimelerin Türkçe karşılığını kullanması

4. Uygurların kabul etmiş olduğu Manihaizm et yemeyi ve savaşmayı yasaklayan bir dindi.

Bu durum Uygurlar hakkında aşağıdakilerden hangisinin bir nedeni olarak gösterilemez?

- A) Savaşçılığın zayıflaması
- B) Yerleşik hayata geçilmesi
- C) Çin ile ilişkiler kurulması
- D) Hayvancılığa ilginin azalması
- E) Beslenme biçiminin değişmesi

5. Bilge Kağan: "Ben Türk Bilge Kağan, tanrı istediği için kağanlık tahtına oturdum." demiştir.

Bilge Kağan'ın bu sözü ilk Türk devletlerinde aşağıdakilerden hangisiyle tanımlanmıştır?

- A) Yuğ
- B) Kut
- C) İt
- D) Uçmağ
- E) Şaman

6. İtil, Don ve Kuban nehirlerinin havzalarını içine alan bölgede kurulan Hazarlar, VII. ve IX. yüzyıllar arasında buldukları bölgede huzuru ve ulaşım güvenliğini sağlayarak bu dönemin Hazar Barış Çağı olarak adlandırılmasına neden olmuşlardır

Bu durumun, aşağıdakilerden hangisini kolaylaştırdığı savunulamaz?

- A) Ticari faaliyetleri
- B) Üretimde artışı
- C) Vergi toplama düzenini
- D) Millî benliğin sürdürülmesini
- E) Toprakların korunmasını



7. Orhun Kitabelerinde "Ölecek milleti diriltip doyurdum. Çıplak milleti giydirdim. Fakir milleti zengin, az milleti çok kıldım." denmiştir.

Bu durum Türk devletlerinde aşağıdaki anlayışlardan hangisinin doğrudan kanıtıdır?

- A) Devlet boylardan oluşur.
B) Son söz hükümdarıdır.
C) Devlet halk için vardır.
D) Ülke toprakları hanedanındır.
E) Halk, sosyal yapılardan oluşur.

8. Orta Asya'da avcılık hayatından hayvanları ehilleştirmeye geçen ilk kavim Türkler olmuştur.

Bu durumun Türklere aşağıdaki kazanımlardan hangisini sağladığı söylenemez?

- A) Ticari faaliyetlerde kazanç sağlanması
B) Temel besin ihtiyacının karşılanması
C) Kurban ibadetinin yerine getirilmesi
D) Ordu - millet anlayışının kazanılması
E) Ulaşım gereksiniminin karşılanması

9. Yunus Öğretmen: "Örneğin, Kök Türkler 627 yılında yaşanan aşırı kar yağışı nedeniyle atlarının ve koyunlarının büyük bölümünü kaybetmişlerdi. 685 yılında meydana gelen kuraklıkta da hayvanlarının dörtte üçü kırılmıştı." demiştir.

Yunus Öğretmen'in bu örneği aşağıdakilerden hangisine yönelik verdiği söylenemez?

- A) Göçlerin nedenlerine
B) Ülüş uygulamalarına
C) Göçebeliliğin sonuçlarına
D) Boy yapılanmasına
E) Yerleşik hayata geçişe

10. Orhun Kitabelerinde "Üstte gökyüzü, altta yağız yer, ikisinin arasında insanoğlu yaratılmıştır. İnsanoğlunun üzerine de Türk kağanları oturtulmuştur." sözlerinde Türk devletinin aşağıdaki niteliklerinden hangisi ifade edilmiştir?

- A) Merkezîyetçi
B) Sosyal
C) Laik
D) Federatif
E) Cihanşümül

11.



Tarih dersinde Kerem Öğretmen Türklerin yazın yaşam alanı olarak kullandığı yerlere ait yukarıdaki görseli sınıfa göstererek Türklerin yaşadığı yerlerin özelliklerini açıklamıştır.

Buna göre aşağıdaki ifadelerden hangisi bu açıklamalardan birisi olarak gösterilemez?

- A) Türk'ün yaşadığı yerde dağ olmalıdır.
B) Türk'ün yaşadığı yer iskân açısından önemli olmalıdır.
C) Türk'ün yaşadığı yerde su bol olmalıdır
D) Türk'ün yaşadığı yerde ot, çayır, çimen, çer çöp fazla olmalıdır.
E) Türk'ün yaşadığı yer yükseltisi fazla olan yerler olmalıdır.

12. Uygurlar ticarete para yerine böz denilen, üzerinde devlet mührü bulunan kumaşlar ve kuanpoyu adı verilen, özel olarak kesilmiş resmî nitelikli bezler kullanmışlardır. Çin'de kullanılan ve çav denilen kâğıt paralar da Uygurlar aracılığıyla Türklerin hayatına girmiştir.

Buna göre Uygurlar ile ilgili aşağıdakilerden hangisine ulaşamaz?

- A) Kültürel etkileşime açık olduklarına
B) Çin'deki gelişmeleri takip ettiklerine
C) Devletin ticaret hayatını desteklediğine
D) Uluslararası ticarete hâkim olduklarına
E) İktisadi hayatı hızlandırmak istediklerine





1. Türkiye ismine ilk olarak VI. yüzyıla ait Bizans kaynaklarında rastlanmıştır. Bu yüzyılda Türkiye adı Orta Asya için kullanılmıştır. IX ve X. yüzyıllarda Volga Nehri'nden Orta Avrupa'ya kadar uzanan topraklara Türkiye denilmiştir. Türklerin Anadolu'yu yurt edinmesinden sonra da Türkiye adı bu topraklar için kullanılmıştır.

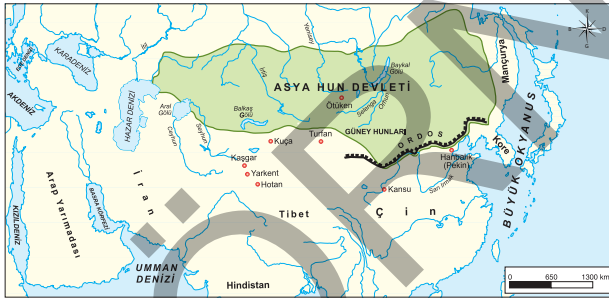
Bu bilgilerden hareketle,

- Türkler farklı coğrafyaları vatan olarak görmüşlerdir.
- Türkler, uzun süre göçebe olarak yaşamışlardır.
- Türkiye kelimesi Türk kaynaklarında yer almamıştır.

yargılarından hangilerine ulaşılabilir?

- A) Yalnız I B) Yalnız III C) I ve II
D) II ve III E) I, II ve III

- 2.



Asya Hun Devleti'nin egemenlik alanını gösteren bu haritaya göre aşağıdakilerden hangisi söylenemez?

- Hunların belli akarsu ve göller üzerinde hâkimiyet kurduğu
- Çin ile Hunlar arasında yapay set oluşturulduğu
- Hun Devleti'nin, egemenlik alanını doğudan batıya doğru genişlettiği
- Hun topraklarının ticaret yapmak için uygun konumda olduğu
- Hunların Orta Asya'daki tek Türk devleti olduğu

3. Tanrı'nın yardımı ve iyiliği, subaylarımızın ve askerlerimizin mükemmelliği ve dayanıklı atlarımızın üstün gücü ile düşmanlarımıza baş eğdirdik. Yüecileri mağlup ettik. Oğuz topluluklarıyla civardaki 26 krallığı egemenliğimize altına aldık ve düzene kavuşturduk. Böylece bunların hepsi Hun oldu. Yay çekebilen ve kullanabilen bütün kavimler bir tek aile hâlinde birleştiler. Şimdi bütün kuzey ülkesi barış içinde.

Asya Hun İmparatoru Mete Han'ın Çin imparatoruna yazmış olduğu mektuptaki bu ifadelerle göre, Hunlarla ilgili aşağıdakilerden hangisi söylenemez?

- Etkili bir askerî teşkilat meydana getirdikleri
- Birden çok devleti bünyesinde topladıkları
- Toplumsal yapıda eşitlikçi davrandıkları
- Yönetimde dinî kuralları esas aldıkları
- Sosyal devlet anlayışını benimsedikleri

4. Akın Öğretmen: "Uygurlar, sayı bakımından çok değillerdi fakat Uygurların disiplinleri ile cezaları çok şiddetli ve kendileride çok cesur idiler. Başlangıçta bütün Uygur boylarını kendi idaresi altına toplayan müşterek bir reisleri yoktu. Konar-göçer oldukları için de sürekli olarak bir yerde oturmuyorlardı. Ata binmede ve ok atmadaki maharetleri fevkalade idi." bilgilerini verdikten sonra öğrencilerine "Uygurların, Manihaizm dinini kabul etmeleri bu özelliklerini nasıl etkilemiştir?" sorusunu sormuştur.

Buna göre öğrencilerin verdiği doğru cevap aşağıdakilerden hangisi olabilir?

- Sayı bakımından çoğalmaları
- Bir lider etrafında birleşmeleri
- Konar-göçer hayat tarzını terk etmeleri
- Suçluları cezalandırmayı bırakmaları
- Ata binmeyi ve ok atmayı terk etmeleri

5. Orhun Kitabelerinde "Doğuda gün doğusuna, güneyde gün ortasına, batıda gün batısına, kuzeyde gece ortasına kadar bütün milletleri kendime tabi kıldım ve hepsini düzene soktum." denmiştir.

Bu ifadelerin aşağıdakilerden hangisine işaret ettiği söylenemez?

- Cihan hâkimiyeti
- Yönetici sülale
- Askerî güç
- Hükümdarın nitelikleri
- Egemenlik anlayışı



6. Eski Türkler yaz mevsimini yaylak adı verilen yüksek ve serin yerlerde geçirirler, kışın ise kışlak denilen ılıman ve alçak düzlüklere inerlerdi.
- “Türklerin bu durumunda uğraş alanları belirleyici olmuştur.” diyen bir tarihçinin kastettiği uğraşı aşağıdakilerden hangisi olabilir?

- A) Demircilik B) Hayvancılık C) Ticaret
D) Avcılık E) Toplayıcılık

7. 4-6. asır Batı kaynaklarında atın Türklerdeki önemi hakkında şöyle denmiştir: “Henüz ayakta durabilecek Hun çocuğunun yanında eyerlenmiş bir at hazır bulunur. Hunlar at üstünde yerler, içerler, alışveriş yaparlar, sohbet ederler ve uyurlar. At, başka bir kavmi yalnız sırtında taşıdığı hâlde, Hun at üstünde ikamet eder.”

Kaynaklardaki bu ifadelerle göre atın Türklerdeki etkileri ilgili aşağıdakilerden hangisi söylenemez?

- A) Günlük hayatın sürdürülmesi
B) Ulaşım ihtiyacının karşılanması
C) Sosyalleşmenin sağlanması
D) Ticari faaliyetlerin sürdürülmesi
E) Tarım üretiminin yapılması

8. Türk devletlerinde aşağıdaki uygulamalardan hangisinin temeli, Türk töresinde var olan ülüş ilkesine dayanmaktadır?

- A) Ülke meselelerinin kurultayda görüşülmesi
B) Hatunun bazı konularda siyasi yetkiye sahip olması
C) Ülkenin hanedan üyeleri arasında paylaşılması
D) Ordunun onlu teşkilata göre yapılandırılması
E) Şamanlara ülke yönetiminde görev verilmemesi

9. Bir tarihçi: “Türkler dışa dönük, eğlenmeyi seven, neşeli ve aktif insanlardı. Onların inancında hayatı kötüleme ve başka bir âlemde mesut olma fikri hemen hemen hiç yoktu. Yaz aylarında günlük işlerin dışında genellikle at ve ok yarışları düzenlenmekte, güreş tutulmakta, çeşitli oyunlar oynanmakta ve silah eğitimi yapılmaktaydı.” demıştır.

Tarihçinin bu görüşüne göre Türkler hakkında aşağıdakilerden hangisi ileri sürülemez?

- A) Toplumsal barışın sağlandığı
B) Ahiret inancının benimsenmediği
C) Askeri etkinliklerin gerçekleştirildiği
D) Toplumsal değer yargılarının önemsendiği
E) Sosyal ve kültürel gelişmelerin yaşandığı

10. Tarihte yaşanan Türk göçleri sonucunda Kuzey yolunu takip eden Türk toplulukları yerleştikleri bölgelerde Avrupa Hun Devleti gibi güçlü devletler kurmuşlardır. Karşılaştıkları topluluklarla kültürel etkileşim içine girerek onlara atı evcilleştirmeyi, madenleri işlemeyi, besinleri saklamayı ve dokumacılığı öğretmişler, ayrıca devlet yönetimi ve ordu teşkilatı konularında da örnek olmuşlardır.

Buna göre aşağıdakilerden hangisi Türk göçlerinin sonuçlarından biri olarak gösterilemez?

- A) Avrupa’da siyasi dengeler değişmiştir.
B) Batılılar, birçok alanda Türklerin etkisinde kalmıştır.
C) Avrupalılar merkezî devletler kurmuşlardır.
D) Avrupa’nın etnik yapısı değişmiştir.
E) Türk kültürü Avrupa’da yayılmıştır.

11. “Türklerin askerlik alanında ileri gitmelerine yol açan faktörler nelerdir?” sorusuna Türklerin aşağıdaki özelliklerinden hangisinden hareketle doğru cevaplar verilemez?

- A) Coğrafi yapıları B) Yaşam tarzları
C) Eğlence anlayışları D) İnanç anlayışları
E) Uğraş alanları

- 12.



Kavimler Göçü’nü gösteren gösteren bu haritaya göre aşağıdakilerden hangisi söylenemez?

- A) Avrupa’da yatay hareketlilik yaşandığı
B) Türklerin Avrupa’da güçlü devletler kurduğu
C) Avrupa’da feodalite rejiminin oluştuğu
D) Roma İmparatorluğu’nun ikiye ayrıldığı
E) Topluluklar arasında etkileşim yaşandığı





1. “Teoman’ın oğlu Türk İmparatoru Mete de meşhurdur. O, doğuda Kadirgan Dağları’ndan batıda Hazar Denizi’ne kadar, kuzeyde Sibirya’dan güneyde Himalaya eteklerine kadar geniş hudutlar içinde Asya Hun İmparatorluğu’nu teşkil etmiş yüksek bir Türk hakanıdır.”

Mustafa Kemal Atatürk’ün bu sözünden hareketle Asya Hun Devleti hakkında aşağıdakilerden hangisi söylenemez?

- A) Mete Han tarafından kuruldukları
B) Geniş bir alanda hâkimiyet kurdukları
C) Teşkilatçı yöneticilere sahip oldukları
D) Yönetimde kut anlayışını benimsedikleri
E) Orta Asya’da varlık gösterdikleri

2. Kök Türk kavmi, sürülerini otlatarak bir yerden başka bir yere göçer, keçe çadırlarda otururlar. Yakınlarından birisi ölünce garip bir şekilde yas tutarlar. Savaşta kaç düşman öldürmüşse mezarına o kadar taş koyarlar. Kağanlarının karargâhı Altay’ın bir kanadında, onların dillerince Ötüken Dağı dedikleri yerdedir. Bu dağdaki mağaralardan biri, atalarından kalma ziyaret yeridir. Kök Türk ileri gelenleri her yıl hanlarıyla birlikte oraya giderek kurbanlar adarlar.

László Ligeti’nin, “*Bilinmeyen İç Asya*” isimli eserinde yer alan bu ifadelere göre Kök Türklerle ilgili aşağıdakilerden hangisi söylenemez?

- A) Önemli olayları kutladıkları
B) Ahiret inancını benimsedikleri
C) Temel geçim kaynağının hayvancılık olduğu
D) Doğadaki unsurlara manevi anlamlar yükledikleri
E) Toplumsal yapının boylardan oluştuğu

3. Ela Öğretmen dersinde: “Kök Türklerin bir ‘hakanlık’ kurması onun isteği ile olmuş; hakan, Türklerle onun tarafından verilmiştir.” demiştir.

Ela Öğretmen’in onun isteği olarak aşağıdakilerden hangisini kastettiği söylenebilir?

- A) Halkı
B) Kurultayı
C) Orduyu
D) Gök Tengri’yi
E) Ataları

4. İlk Türk devletlerinin aşağıdaki faaliyetlerinden hangisinde coğrafi konumları daha çok etkili olmuştur?

- A) Dericilik
B) Dokumacılık
C) Demircilik
D) Ticaret
E) Avcılık

5. İlk Türk devletleri konusunun işlendiği bir derste tarih öğretmeni “Hükümdar eşi olan hatun; devlet meclislerine katılır, elçi törenlerinde bulunur, saray ve veliaht sahibidir.” bilgilerini vererek, öğrencilerine “Bunlardan hangileri hatunun siyasi yetki sahibi olduğunu gösterir?” sorusunu yöneltmiştir.

Öğrencilerin bu soruya doğru cevap olarak aşağıdakilerden hangisini vermesi beklenir?

- A) Meclise katılma - Elçi törenlerinde bulunma
B) Saray sahibi olma - Veliaht sahibi olma
C) Elçi törenlerinde bulunma - Saray sahibi olma
D) Veliaht sahibi olma - Meclise katılma
E) Meclise katılma - Saray sahibi olma

6. Türklerde töre konusunu işleyecek olan Öykü Öğretmen, öğrencilerine “Türklerdeki il gider, töre kalır sözünden ne anlıyorsunuz?” sorusunu yöneltmiştir. Öğrencilerden bazıları aşağıdaki cevapları vermiştir.

- I. Devlet ile töre birbirinden ayrılmaz.
II. Töre, yazıya geçirilmesiyle kalıcı hâle gelir.
III. Töre, hiçbir şekilde değiştirilmez.
IV. Devletlerin ömrü töreyle ilgili değildir.
V. Her devlette aynı töre kuralları uygulanmalıdır.

Öğrencilerin verdiği bu cevaplardan hangisi doğrudur?

- A) I
B) II
C) III
D) IV
E) V

7. Asya Hunları ve I. Kök Türkler hâkim oldukları yollar üzerinde güvenliği sağlamaya büyük önem vermişler, ayrıca tüccarlara yük ve binek hayvanları temin edip kervanların konaklaması için yol boyunca kervansaraylar inşa etmişlerdir.

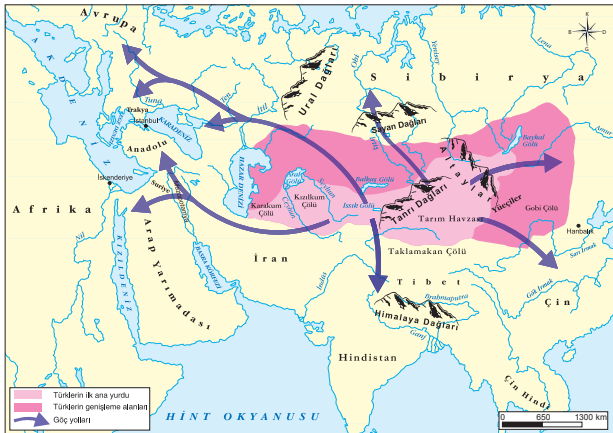
Aşağıdakilerden hangisi ilgili devletlerin bu yaklaşımının sonuçlarından biri değildir?

- A) Ülkenin stratejik önem kazanması
B) Kervan ticaretinin yaygınlaşması
C) Farklı kültürlerin tanınması
D) Ülke gelirlerinin artması
E) Şehirciliğin önem kazanması





8.



Farklı dönemlerde gerçekleştirilen Türk göçleriyle ilgili bu haritaya göre aşağıdakilerden hangisi söylenemez?

- A) Türk tarihindeki bütünlük zamanla bozulmuştur.
- B) Türkler göçlerde aynı güzergâhları kullanmamıştır.
- C) Türklerin farklı kültürleri tanıma imkânı oluşmuştur.
- D) Türklerde göçlerle genişleme siyaseti benimsenmiştir.
- E) Türk tarihini incelemek zorlaşmıştır.

9.

Jean Paul Roux: "Romalılar onlara saygı duyuyor olmalıydılar. Hunlardan korkmaktan çok onlara hayrandılar. Hatta Romalılar çocuklarını Hunlara rehin olarak sunup karşılığında Vizigotlara, Fransızlara ve Burgondlara karşı kendileriyle ittifak yapmalarını isterler." demiştir.

Yalnız bu bilgiye göre Hunlarla ilgili olarak aşağıdaki yargılardan hangisine ulaşılabilir?

- A) Avrupa'da barış ortamını sağlamışlardır.
- B) Batılılar üzerinde nüfuz sahibi olmuşlardır.
- C) Dış politikada denge stratejisi uygulamışlardır.
- D) Eğitim alanında Batılı toplumlarını etkilemişlerdir.
- E) Barbar kavimler arasındaki ayrılıkları arttırmışlardır.

10.

Bir tarihçi: "Türkler insanlık tarihinde Pasifik'ten Akdeniz'e, Pekin'den Viyana'ya ve Cezayir'e, oradan Troyes'e uzanan iki bin yıllık tarih demektir." demiştir.

Tarihçinin bu sözle Türklerle ilgili olarak;

- I. uzun bir geçmişe sahip oldukları,
- II. farklı coğrafyalarda hâkimiyet sağladıkları,
- III. dinlerini geniş alanlara yaydıkları

durumlarından hangilerini kastettiği söylenebilir?

- A) Yalnız I
- B) Yalnız III
- C) I ve II
- D) II ve III
- E) I, II ve III

11.



Yukarıdaki haritada Hazarların egemenlik alanı gösterilmiştir.

Bu durumun Hazarlarda aşağıdakilerden hangisine ortam hazırlayan bir yönü olduğu söylenemez?

- A) Güvenlik sorununun azalması
- B) Ticaretin canlanması
- C) Ülkede refahın yükselmesi
- D) Farklı dinlerin yayılması
- E) Kültürel etkileşimin artması

12.

Türgişlerde Sulu Kağan Maveraünnehri'ni Emevilere dar etmiş, Emeviler Ceyhun ötesine geçmeye âdeta korkar olmuşlardır. Onun ölümü üzerine Emeviler askıya aldıkları taarruz politikalarını tekrar canlandırmışlar aynı şekilde Çinliler de İpek Yolu'nun öneminden dolayı batı seferlerine yeniden başlamışlardır.

Buna göre Sulu Kağan'la ilgili olarak aşağıdakilerden hangisine ulaşılabilir?

- A) Geniş bir alanda söz sahibi olduğuna
- B) Bölge dengeleri üzerinde etkili olduğuna
- C) Ulusçu bir anlayışla hareket ettiğine
- D) Askerî gücünü etkin olarak kullandığına
- E) Araplara karşı Çinlileri kullandığına

